

Міністерство освіти і науки України
Львівський національний університет імені Івана Франка

Галина Лабінська

**Завдання до виконання практичних робіт
з курсу
“Економічна і соціальна географія України”
та комплект тестових завдань до контрольної роботи**

**для студентів географічного факультету
заочної форми навчання**



Львів –2020

Рекомендовано до друку
Вченою радою
географічного факультету

Протокол № 2 від 19 березня 2014 р.

Уклала Лабінська Г.М.

Завдання до виконання практичних робіт
з курсу
“Економічна і соціальна географія України”
та комплект тестових завдань до контрольної роботи
для студентів географічного факультету
заочної форми навчання

Економічна і соціальна географія України є важливою частиною суспільної географії України зокрема та й усього процесу навчання на географічному факультеті. Курс “Економічна і соціальна географія України” читають студентам заочної форми на п'ятому курсі навчання для спеціальності 6.040104 “Географія”.

Згідно навчальної програми у 2019/2020 навчальному році на даний предмет відведено 105 годин, з яких 12 год. – на лекції, 8 год. – на практичні роботи, 73 год. – для самостійної роботи студентів; ще 10 год. припадає на контрольну роботу. Тематика практичних робіт безпосередньо пов'язана з програмою лекційного курсу. Виконання практичних робіт дає змогу студентам поглибити, розширити, закріпити знання, здобуті на лекціях та під час самостійної роботи. Виконуючи практичні роботи, студенти вчаться підбирати потрібні джерела інформації (літературні, статистичні, картографічні, Інтернет-ресурси), опрацьовувати матеріал, при цьому критично його осмислюючи; здійснювати узагальнення та лаконічні висновки. Практичні роботи націлені на розвиток у студентів картографічної культури, писемного і вербального наукового мовлення, графічних навиків (побудова діаграм, графіків).

Для успішного виконання практичної роботи і її захисту студентам необхідно ознайомитись із змістом відповідної лекції, рекомендованими літературними та статистичними джерелами. Окремі завдання практичних робіт передбачають вільний вибір показників для аналізу із запропонованого списку та подальшою аргументацією відповідного вибору під час захисту практичної роботи.

© Лабінська Г.М.

Практична робота №1

Тема. ГЕОПОЛІТИЧНА ХАРАКТЕРИСТИКА УКРАЇНИ

Мета. Простежити тенденції змін головних макропоказників України, візуалізувати їх графічно; обґрунтувати вибір трьох показників, що репрезентують сучасну соціально-економічну ситуацію в Україні.

Завдання 1. Знати геополітичну характеристику України (додаток 1) й особливості формування державної території України.

Завдання 2. Виділити на контурній карті межі та центри адміністративно-територіальних одиниць вищого рівня. Значковим способом на картосхемі показати кількість адміністративних районів в областях та анексованій автономії (додаток 1, табл. 1.1). Знати загальну кількість сільських та міських населених пунктів у країні (додаток 1, рис. 1.1).

Завдання 3. Позначте на картосхемі міста обласного та республіканського підпорядкування (не менше 5-ти) у розрізі адміністративних одиниць України. Вміти їх назвати (додаток 1, табл. 1.2).

Завдання 4. На підставі даних таблиці 1.3. проаналізуйте релігійну ситуацію в Україні (додаток 1), побудуйте кругову діаграму для відображення структури релігійних організацій в Україні станом на 2018 р. Проаналізуйте спектр легалізованих об'єднань громадян станом на 2015 р., відстежте зміни, які відбулися порівняно з 2000 роком (додаток 1, табл. 1.4).

Завдання 5. Добірку із трьох показників (на вибір), які найкраще, на вашу думку, характеризують соціально-економічну ситуацію в країні, відобразити графіками у динаміці (2000 – 2018 рр.) (додаток 1, табл. 1.5). У висновку обґрунтувати вибір показників та їх індикативність стосовно сучасної соціально-економічної ситуації в Україні.

1. Дністрянський М.С. Україна в політико-географічному вимірі / М.С. Дністрянський. – Львів: ВЦ ЛНУ імені Івана Франка, 2000. – 310 с.
2. Заставний Ф.Д. Україна. Природа, населення, економіка / Ф.Д. Заставний. – Львів: Априорі, 2011. – 504 с.
3. Ковальчук А.С. Географія релігій в Україні. Монографія / А.С. Ковальчук. – Львів: ВЦ ЛНУ імені Івана Франка, 2003. – 308 с.
4. Рогожин О.Г. Демографічні перспективи українського села: історичні перспективи, регіональний аналіз і моделювання / О.Г. Рогожин. – Київ: Інститут проблем національної безпеки, 2004. – 296 с.
5. Веб-сторінка Українського інституту національної пам'яті. [Електронний ресурс]. – режим доступу: <http://www.memory.gov.ua/page/polozhennya-pro-ukrainskii-institut-natsionalnoi-pamyati>
6. Офіційний веб-портал Державної служби статистики України. [Електронний ресурс]. – режим доступу: www.ukrstat.gov.ua
7. Що буде з економікою у 2019 році: відповідь НБУ. [Електронний ресурс]. – режим доступу: https://24tv.ua/shho_bude_z_ekonomikoyu_u_2019_rotsi_vidpovid_nbu_n1105332

Практична робота №2

Тема. ЗАЙНЯТИСТЬ НАСЕЛЕННЯ УКРАЇНИ

Мета. У контексті основних демографічних тенденцій простежити зміни у структурі населення України за відношенням до праці; зміни зайнятості населення України за видами економічної діяльності; з'ясувати особливості незайнятості населення за статтю, місцем проживання й у динаміці.

Завдання 1. З'ясуйте сутність понять “працездатне населення”, “економічно активне населення”, “економічно неактивне населення”, “рівень безробіття”, “ринок праці”.

Завдання 2. Простежте зміни у структурі населення України за відношенням до праці: через обрахування частки осіб допрацездатного, працездатного та післяпрацездатного віку за період з 1959 по 2018 рр. Про яку демографічну тенденцію йдеться? Які вона матиме наслідки у майбутньому на ринку праці України? (додаток 2, табл. 2.1).

Завдання 3. Відобразіть структурною діаграмою зайнятість населення України за видами економічної діяльності станом на 2018 р. (додаток 2, табл. 2.2).

Завдання 4. Проаналізуйте розподіл величини середньомісячної номінальної заробітної плати штатних працівників за видами економічної діяльності (додаток 2, табл. 2.3). Як можете пояснити такий розподіл? Чи відображають офіційні показники оплати праці ринкові показники?

Завдання 5. Відобразіть картографічно регіональні відмінності рівня безробіття в Україні (додаток 2, табл. 2.4). Які чинники зумовлюють їхню диференціацію?

Які зміни спостерігаємо у структурі когорти безробітних за тривалістю пошуку роботи у 2018 р. порівняно з даними 2000 р. (додаток 2, табл. 2.5)? Як різняться рівні безробіття у розрізі за статтю та місцем проживання (додаток 2, табл. 2.5)? Візуалізуйте показники табл. 2.5 та 2.6. Порівняйте рівні безробіття в Україні та ЄС (додаток 2, табл. 2.7).

Завдання 6. Подайте короткий звіт за темою практичної роботи.

1. Демографічна криза в Україні. Проблеми дослідження, витоки, складові, напрями протидії // НАН України. Інститут економіки. [За ред. В. Стешенко]. – Київ, 2001. – 560 с.
2. Комплексний демографічний прогноз України на період до 2050 р. (колектив авторів) / за ред. чл.-кор. НАНУ, д.е.н., проф. Е.М.Лібанової. – Київ: Український центр соціальних реформ, 2006. – 138 с. [Електронний ресурс]. – режим доступу: <https://www.idss.org.ua/monografii/Prognoz%20Ukrain.pdf>
3. Лабінська Г. Найвагоміші ризики українського підприємництва на сучасному етапі / Г.М.Лабінська, Л.Т.Шевчук // Збірник наукових статей за матеріалами IV Всеукраїнської науково-практичної конференції “Актуальні проблеми соціально-економічних систем в умовах трансформаційної економіки” (12-13 квітня 2018 р., Дніпро). Частина 2. – Дніпро: НМетАУ, 2018. – Сс. 66-71. [Електронний ресурс]. – Режим доступу: https://nmetau.edu.ua/file/sbornik_18_2.pdf
4. Офіційний веб-портал Державної служби статистики України. [Електронний ресурс]. – режим доступу: www.ukrstat.gov.ua
5. Офіційний веб-сайт Інституту демографії та соціальних досліджень імені М.В. Птухи НАН України. [Електронний ресурс]. – режим доступу: www.idss.org.ua
6. Порівнюємо дані переписів населення України 2020 та 2001 років. [Електронний ресурс]. – режим доступу: <https://www.slovoidilo.ua/2020/01/23/infografika/suspilstvo/porivnyuyemo-dani-perepysu-naselennya-ukrayiny-2020-2001-rokiv>

Практична робота №3

Тема. ЕНЕРГЕТИКА УКРАЇНИ

Мета. Опрацюючи сучасну статистичну інформацію, навчитися відстежувати трансформаційні зміни в енергетиці України; аналізувати стан енергетичного забезпечення країни, ускладнений проблемою дефіциту палива і залежністю від реверсних поставок газу з Європи; з'ясувати наслідкові зміни у структурі споживання енергетичних ресурсів за видами економічної діяльності у часовій динаміці та перспективи використання видів нетрадиційного газу.

Завдання 1. Позначте на контурній карті України головні ТЕС, ГЕС, АЕС, ВЕС та СЕЗ:

ТЕС	ГЕС	АЕС	ВЕС	СЕЗ
Алчевська	Дніпровська	Запорізька	Ботієвська	Гордашівська
Бурштинська	Дністровська	Південноукраїнська	Дмитрівська	Дунайська
Вуглегірська	Канівська	Рівненська	Донузлавська	Митяєво
Добротвірська	Каховська	Хмельницька	Краснодонська	Ірляєво
Запорізька	Київська		Новоазовська	Озерна
Зміївська	Кременчуцька	недіючі:	Очаківська	Охотникове
Зуївська	Середньодніпровська	Кримська	Старий Самбір-1	Перове
Криворізька	Теребле-Ріцька	Чернобильська	Старий Самбір-2	Родникове
Курахівська			Східницька	Самбірська
Ладизинська			Тузлівська	Скадовська
Локачинська			Тарханкутська	Старокозача
Луганська				Ясенівка
Миронівська				
Придніпровська				недіюча:
Слов'янська				СЕС-5
Старобешівська				
Трипільська				

Завдання 2. Проаналізуйте динаміку виробництва електроенергії усіма електростанціями України упродовж 1990-2018 рр. (додаток 2, табл. 2.1.). Діаграмою відобразіть структуру виробництва електроенергії за усіма видами електростанцій: гідроелектростанціями, тепловими, атомними та іншими (вітровими, сонячними).

Завдання 3. Проаналізуйте письмово споживання енергетичних ресурсів за окремими видами економічної діяльності та структуру споживання енергетичних матеріалів та продуктів перероблення нафти у динаміці (2000 – 2018 рр.) (додаток 2, табл. 2.2 – 2.3).

Завдання 4. З'ясуйте перспективи використання видів нетрадиційного газу в Україні: сланцевого газу; газу ущільнених порід; метану вугільних товщ; “підводного” газу шельфу Чорного моря.

Завдання 5. Подайте короткий звіт за темою практичної роботи.

1. Атлас “Україна. Промисловість та інвестиційна діяльність”. – Київ: Картографія, 2003. – 80 с.
2. Заставний Ф.Д. Україна. Природа, населення, економіка / Ф. Д.Заставний. – Львів: Априорі, 2011. – 504 с.
3. Оржель О. Кілька міфів про енергетику / Олексій Оржель. [Електронний ресурс]. – режим доступу: <http://www.epravda.com.ua/columns/2014/12/17/513913/>
4. Перспективи розвитку теплової енергетики. Електронний ресурс]. – режим доступу: <http://energetika.in.ua/ua/books/book-3/part-1/section-6>
5. Офіційний веб-портал Державної служби статистики України. [Електронний ресурс]. – режим доступу: www.ukrstat.gov.ua

Практична робота №4

Тема. СІЛЬСЬКЕ ГОСПОДАРСТВО УКРАЇНИ

Мета. З'ясувати особливості трансформації сільського господарства України через зміну показників врожайності основних сільськогосподарських культур та показників виробництва основних видів продукції тваринництва; зміну структури посівних площ та рівня рентабельності основних видів продукції сільського господарства; регіональні відмінності показника “врожайність пшениці”.

Завдання 1. Проаналізуйте зміну врожайності основних сільськогосподарських культур та виробництва основних видів продукції тваринництва за період з 1940 р. по 2018 р. Виконайте необхідні обчислення, обрахувавши у скільки разів зросла/зменшилася врожайність культур та обсяги виробництва основних видів продукції тваринництва у 2018 р. порівняно з 1940 р., 1990 р., 2000 р. (додаток 4, табл. 4.1, 4.2.).

Завдання 2. Побудуйте діаграму структури посівних площ основних сільськогосподарських культур у 2018 р. Як змінилася частка основних груп сільськогосподарських культур: зернових, технічних, кормових та ін. порівняно з 2000 роком? (додаток 4, рис. 4.1).

Завдання 3. Складіть картосхему “Врожайність пшениці за регіонами України у 2018 р.” (додаток 4, таблиці 4.3). Проаналізуйте таблицю 4.4. “Розподіл продукції сільського господарства за регіонами”.

Завдання 4. Відобразіть діаграмою рівень рентабельності основних видів продукції сільського господарства сільськогосподарських підприємств станом на 2000 та 2018 рр. (додаток 4, табл. 4.4).

Завдання 5. Подайте короткий звіт за темою практичної роботи.

1. Данилишин Б.М. Соціально-економічні проблеми розвитку регіонів: методологія і практика / Б.М.Данилишин, Л.Г.Чернюк, М.І. Фашевський. [За ред. д.е.н., проф., чл.-кор. НАН України Б.М.Данилишина]. – Черкаси: ЧДТУ, 2006. – 315 с.
2. Розміщення продуктивних сил і регіональна економіка: Підручник / С.І.Дорогунцов, Т.А.Заяць, Ю.І.Пігоренко та ін.; [За заг. ред. д-ра екон. наук, проф., чл.-кор. НАН України С.І.Дорогунцова]. – Вид. 3-тє, без змін. – Київ: КНЕУ, 2008. – 992 с.
3. Соціально-економічна географія України: Навчальний посібник / [За ред. проф. Шаблія О.І.]. Вид друге, перероб. і доп. – Львів: Світ, 2000. – 680 с.
4. Філіпенко А.С. Україна і світове господарство: взаємодія на межі тисячоліть / А.С.Філіпенко, В.С.Букін, А.С.Гальчинський та ін. – Київ: Либідь, 2002. – 470 с.
5. Шевчук Л.Т. Розміщення продуктивних сил. Навчальний посібник / Л.Т. Шевчук. – Львів: ВЦ ЛНУ імені Івана Франка, 2001. – 150 с.
6. Офіційний веб-портал Державної служби статистики України. [Електронний ресурс]. – режим доступу: www.ukrstat.gov.ua

Тести для контрольної роботи

Рівень I

1. Визначте форму сучасного адміністративного устрою і форму правління в Україні:
 - а) унітарна парламентсько-президентська республіка;
 - б) унітарна президентсько-парламентська республіка;
 - в) федеративна президентська республіка;
 - г) федеративна парламентська республіка.
2. Абсолютний ВВП України станом на початок 2019 р. сягнув:
 - а) 2 983 млрд. грн.;
 - б) 3 559 млрд. грн.;
 - в) 720, 7 млрд. грн.;
 - г) 544,2 млрд. грн.
3. Оберіть правильне визначення поняття “ВВП”:
 - а) сукупна вартість товарів і послуг, вироблених і реалізованих впродовж року в країні;
 - б) сукупність усіх доходів, що формується в країні в результаті розвитку господарства;
 - в) сукупність ресурсів і можливостей науки, що дають змогу ефективно вирішувати господарські питання;
 - г) сукупна вартість товарів і послуг, вироблених і реалізованих громадянами і фірмами впродовж року в країні та за кордоном, не враховуючи дохід іноземних громадян і фірм, представлених у країні.
4. Зазначте країну, з якою Україна має найдовший кордон:
 - а) Польща;
 - б) Білорусь;
 - в) Росія;
 - г) Румунія.
5. Вкажіть площу України:
 - а) 703,4 тис. км².
 - б) 603,4 тис. км².
 - в) 560,8 тис. км².
 - г) 487,4 тис. км².
6. Зазначте, якою є протяжність території України зі сходу на захід:
 - а) 1974 км;
 - б) 1316 км;
 - в) 1111 км;
 - г) 7050 км.
7. Вкажіть назву геометричного центру України:
 - а) м. Київ;
 - б) смт Добровеличківка;
 - в) с. Ділове;
 - г) с. Соломонове.

8. Конкретизуйте загальну кількість сільських населених пунктів в Україні:
- 15 678;
 - 25 567;
 - 28 376;
 - 30 490.
9. Яка кількість міст зафіксована в Україні у 2018 р.:
- 490;
 - 461;
 - 180;
 - 885.
10. Розташуйте послідовно міста-мільйонери України у порядку збільшення людності:
- Одеса;
 - Харків;
 - Дніпро;
 - Київ;
 - Донецьк.
11. Для якого з наведених переліків областей характерний поділ на найменшу кількість адміністративних районів:
- Львівська, Запорізька, Кіровоградська;
 - Чернігівська, Хмельницька, Черкаська;
 - Одеська, Харківська, Полтавська;
 - Волинська, Закарпатська, Івано-Франківська.
12. Розташуйте послідовно області України в порядку зменшення їх площ:
- Чернівецька;
 - Одеська;
 - Тернопільська;
 - Донецька.
13. Вкажіть, у якій послідовності розташовані області України на Азово-Чорноморському узбережжі, починаючи зі сходу:
- Запорізька;
 - Донецька;
 - Херсонська;
 - Миколаївська.
14. Вкажіть державу, з якою Україна має найкоротший суходільний кордон:
- Угорщина;
 - Молдова;
 - Словаччина;
 - Румунія.
15. Зазначте, з якою областю України Білорусь не має спільного кордону:
- Рівненська;
 - Київська;
 - Чернігівська;
 - Сумська.

16. Оберіть групу країн, які разом з Україною входять до складу ГУАМ:
- Грузія, Узбекистан, Азербайджан, Молдова;
 - Грузія, Азербайджан, Молдова;
 - Греція, Узбекистан, Афганістан, Мальта;
 - Румунія, Болгарія, Туреччина, Грузія.
17. Вкажіть країну, з якою Україна має найбільший товарообіг:
- Туреччина;
 - Росія;
 - Китай;
 - Польща.
18. Розташуйте послідовно області України вздовж кордону з Росією з півночі на південь:
- Харківська;
 - Донецька;
 - Луганська;
 - Сумська.
19. Розташуйте послідовно від гирла р. Дунай області, які мають вихід до моря:
- Запорізька;
 - Миколаївська;
 - Донецька;
 - Одеська.
20. Вкажіть, якому історико-географічному краю відповідає більша частина території Волинської та Рівненської областей:
- Поділля;
 - Волинь;
 - Бессарабія;
 - Слобожанщина.
21. Яка з перелічених українських етнічних земель входить нині до складу Польщі:
- Берестейщина;
 - Мармарощина;
 - Холмщина;
 - Пряшівщина.
22. Назвіть крайню східну точку України:
- с. Мілове Луганської області;
 - с. Рання Зоря Луганської області;
 - м. Свердловськ Луганської області;
 - с. Бірюкове Луганської області.
23. Оберіть варіант, у якому вказано адміністративні області, які межують одна з одною:
- Полтавська, Донецька, Луганська;
 - Дніпропетровська, Запорізька, Одеська;
 - Кіровоградська, Вінницька, Черкаська;
 - Миколаївська, Київська, Хмельницька.

24. Оберіть правильну відповідь, яка характеризує сучасне населення України:
- а) середній вік населення становить 25 років;
 - б) для населення України характерний другий тип відтворення населення;
 - в) населення характеризується значною міграційною осілістю;
 - г) населення України характеризується значною міграційною мобільністю.
25. Оберіть варіант, у якому правильно вказано частку міського і сільського населення України:
- а) 45% і 55%;
 - б) 69% і 31%;
 - в) 61% і 39%;
 - г) 55% і 45%.
26. Усереднена щільність населення України становить:
- а) 66 осіб/км²;
 - б) 70 осіб/км²;
 - в) 88 осіб/км²;
 - г) 43 особи /км².
27. Складіть послідовність галузей господарства України за показником зайнятості в них населення, починаючи з найменшого:
- а) транспорт і зв'язок;
 - б) промисловість;
 - в) сільське господарство;
 - г) освіта, наука, культура.
28. Розташуйте послідовно адміністративні області України в порядку зростання щільності населення:
- а) Черкаська;
 - б) Донецька;
 - в) Чернігівська;
 - г) Чернівецька.
29. Коли зі складу УРСР було вилучено Шахтинський і Таганрозький округи?
- а) у 1941 році;
 - б) у 1925 році;
 - в) у 1930 році;
 - г) у 1954 році.
30. Розташуйте області України в порядку збільшення у них рівня урбанізації:
- а) Закарпатська;
 - б) Донецька;
 - в) Луганська;
 - г) Черкаська.

31. Розташуйте національні меншини України послідовно в порядку зменшення їх чисельності:
- а) євреї;
 - б) росіяни;
 - в) поляки;
 - г) греки.
32. Визначте варіант, де вказано області із дуже строкатим національним складом населення:
- а) Одеська, Закарпатська;
 - б) Житомирська, Чернігівська;
 - в) Полтавська, Київська;
 - г) Черкаська, Кіровоградська.
33. Зазначте, до якої мовної сім'ї належить українська мова:
- а) Уральської;
 - б) Семіто-хамітської;
 - в) Індоевропейської;
 - г) Алтайської.
34. Розташуйте послідовно країни в порядку збільшення в них чисельності української діаспори:
- а) Молдова;
 - б) Росія;
 - в) Білорусь;
 - г) Казахстан.
35. Виберіть з переліку об'єктів природно-заповідного фонду України природний заповідник:
- а) Шацький;
 - б) Дунайський;
 - в) "Медобори";
 - г) Чорноморський.
36. Виберіть з перелічених об'єктів природно-заповідного фонду національний парк:
- а) Поліський;
 - б) Шацький;
 - в) Асканія-Нова;
 - г) Ялтинський.
37. Визначте найменший за площею природний заповідник України:
- а) мис Март'ян;
 - б) Карпатський;
 - в) Асканія-Нова;
 - г) Дунайський.

38. Вкажіть назву гірського хребта Українських Карпат, на якому розташовані найвищі вершини:
- а) Зовнішні Карпати;
 - б) Вододільно-Верховинський;
 - в) Вулканічний;
 - г) Полонинсько-Чорногірський.
39. Вкажіть назву найвищої точки рівнинної частини території України:
- а) Вапнярка;
 - б) Берда;
 - в) Бельмак-Могила;
 - г) Могила-Мечетна.
40. Розташуйте річки у межах України послідовно за довжиною, починаючи з найкоротшої:
- а) Південний Буг;
 - б) Дунай;
 - в) Дніпро;
 - г) Дністер.
41. Вкажіть, яка з річок у межах України є другою за довжиною:
- а) Дніпро;
 - б) Південний Буг;
 - в) Дунай;
 - г) Дністер.
42. Розташуйте послідовно притоки Дніпра в межах України за довжиною, починаючи з найкоротшої:
- а) Прип'ять;
 - б) Тетерів;
 - в) Рось;
 - г) Десна.
43. Зазначте, на якій височині розташований витік найбільшої річки України:
- а) Валдайська;
 - б) Смоленсько-Московська;
 - в) Приволзька;
 - г) Придніпровська.
44. Вкажіть, який з лиманів Чорного моря є найбільшим за площею?
- а) Хаджибейський;
 - б) Куяльницький;
 - в) Тилігульський;
 - г) Дністровський.

45. Співвідношення електроенергії, що виробляють в Україні електростанції різного типу, становить:
- а) ТЕС _____%;
 - б) ГЕС _____%;
 - в) АЕС _____%.
46. Робота яких ТЕС забезпечувалася кам'яним вугіллям з Донецького басейну:
- а) Вуглегірська;
 - б) Бурштинська;
 - в) Добротвірська;
 - г) Трипільська;
 - г) Рівненська.
47. Які з дев'яти економічних районів України не мають яскраво вираженого і потужного районоформуючого центру:
- а) Столичний, Карпатський, Північно-Східний;
 - б) Донецький, Придніпровський, Причорноморський;
 - в) Центральний, Західно-Волинський, Подільський.
48. Уточніть, яку частку посівних площ України у 2016 р. займали зернові культури?
- а) 30 %;
 - б) 45 %;
 - в) 19 %;
 - г) Ваш варіант відповіді....
49. Котрі з перелічених електростанцій є вітровими:
- а) Ладизинська;
 - б) Ботієвська;
 - в) Скадовська;
 - г) Старокозача.
50. Назвіть міста обласного підпорядкування ... області (не менше п'яти).
51. Кількість зайнятого економічно активного населення в Україні з року в рік зменшується. Станом на 2018 р. вона становила:
- а) 16 361 тис. осіб;
 - б) 17 955 тис. осіб;
 - в) 40 млн осіб;
 - г) 22 058 млн осіб.
52. Яка кількість адміністративних районів у Харківській та Вінницькій областях?
- а) 10;
 - б) 47;
 - в) 90;
 - г) Ваш варіант відповіді....

53. Які територіальні відміни ви зафіксували при картографуванні показника “Врожайність пшениці” ?
54. Який обсяг вугілля було спожито в Україні у 2018 р.?
а) 46 млрд м³;
б) 54 млн т;
в) 45 млн т;
г) 33 млн т.
55. Чому Україна у 2018 р. все ще належала до держав аграрно-індустріального типу, не зважаючи на те, що доволі значний відсоток населення зосереджений у сфері послуг?
56. Нікопольський (НЗФ), Запорізький (ЗЗФ), Кадіївський (КЗФ) заводи в Україні спеціалізуються на виробництві:
а) труб;
б) вогнетривів;
в) феросплавів;
г) сталі.
57. Зазначте, на якій території переважно вирощують яру пшеницю:
а) Передкарпаття;
б) Полісся;
в) Лісостеп;
г) Степ.
58. Вкажіть чинник, який найбільше впливає на структуру, розміщення і спеціалізацію тваринництва в Україні:
а) природні умови;
б) наявність кваліфікованої робочої сили;
в) історичні умови розвитку тваринництва;
г) характер кормової бази різних регіонів.
59. Розташуйте послідовно родовища мінеральних вод із заходу на схід:
а) Миргородське;
б) Хмільницьке;
в) Збручанське;
г) Стебницьке.
60. Визначте тектонічну структуру, у межах якої розташовані основні родовища урану:
а) Донецька складчаста область;
б) Український щит;
в) Волино-Подільська плита;
г) Причорноморська западина.
61. Оберіть групу областей, у яких розташовані основні центри видобування бурого вугілля:
а) Кіровоградська, Черкаська;
б) Житомирська, Вінницька;
в) Кіровоградська, Запорізька;
г) Київська, Житомирська.

62. Виберіть із запропонованого переліку групу нерудних корисних копалин:
а) кварцит, золото, природний газ, мергель;
б) боксити, нафта, озокерит, сірка;
в) апатити, кам'яна сіль, поліметали, сірка;
г) графіт, фосфорити, торф, доломіти.
63. Визначте, які транспортні шляхи було прокладено між Львовом і Перемишлем у 1961 р. та між Одесою і Балтою в 1865 р.:
а) судноплавні канали;
б) трубопроводи;
в) шосейні дороги;
г) залізничні колії.
64. Вкажіть, який нафтопровід було прокладено в Україні після проголошення незалежності:
а) “Дружба”;
б) Одеса – Броди;
в) Качанівка – Охтирка;
г) Мічуринськ (Росія) – Кременчук.
65. Розташуйте послідовно види транспорту за обсягами пасажирообігу, починаючи з найбільшого показника:
а) водний;
б) залізничний;
в) автомобільний;
г) повітряний.
66. Розташуйте адміністративні області України в порядку зростання щільності автошляхів з твердим покриттям:
а) Київська;
б) Львівська;
в) Чернігівська;
г) Одеська.
67. Вкажіть регіон, для якого характерна найщільніша мережа залізниць:
а) Поділля;
б) Донбас;
в) Причорномор'я;
г) Полісся.
68. Вкажіть, яке місто-порт розташоване на Азовському морі:
а) Ялта;
б) Одеса;
в) Маріуполь;
г) Феодосія.
69. Оберіть групу міст, які в Україні є великими залізничними вузлами:
а) Київ, Жмеринка, Львів;
б) Мелітополь, Харків, Бердянськ;
в) Маріуполь, Миколаїв, Бориспіль;
г) Гайворон, Феодосія, Донецьк.

70. Розташуйте послідовно в напрямку із заходу на схід залізничні вузли:
- Хмельницький;
 - Вапнярка;
 - Тернопіль;
 - Дебальцево.
71. Розташуйте види транспорту за збільшенням показника довжини шляхів сполучення в Україні:
- залізничний;
 - річковий;
 - трубопровідний;
 - автомобільний.
72. Вкажіть назву центру авіакосмічної промисловості України:
- Львів;
 - Запоріжжя;
 - Київ;
 - Дніпро.
73. Позначте регіон, на який припадає майже 80% переробки усіх вантажів морського транспорту України:
- Миколаївська обл.;
 - Одеська обл.;
 - Херсонська обл.;
 - Донецька обл.
74. Розташуйте послідовно порти на річці Дунай, починаючи від гирла:
- Кілія;
 - Рені;
 - Вилкове;
 - Ізмаїл.
75. Котре з названих нижче водосховищ розташоване на річці Південний Буг:
- Ладизинське;
 - Червонооскільське;
 - Дніпродзержинське;
 - Печенізьке.
76. Розташуйте послідовно водосховища на Дніпрі в напрямку від витoku до гирла:
- Канівське;
 - Київське;
 - Каховське;
 - Кременчуцьке.
77. Вкажіть, який показник характеризує ефективність виробництва:
- валовий національний продукт;
 - собівартість;
 - валовий внутрішній продукт;
 - спеціалізація.

78. З'ясуйте, з якою тектонічною структурою пов'язані Калусько-Голинське, Стебницьке родовища калійної солі?
- Український щит;
 - Дніпровсько-Донецька западина;
 - Передкарпатський крайовий прогин;
 - Причорноморська западина.
79. Вкажіть основні центри видобутку кам'яної солі в Україні:
- Калуш і Стебник;
 - Новий Розділ і Новояворівськ;
 - Слов'янськ і Лисичанськ;
 - Артемівськ і Солотвино.
80. Визначте, які корисні копалини пов'язані з Передкарпатським прогином:
- боксити;
 - нафта й газ;
 - золото;
 - кам'яне вугілля.
81. Зазначте, який з названих регіонів не є нафтогазоносним:
- Дніпровсько-Донецький;
 - Львівсько-Волинський;
 - Карпатський;
 - Причорноморсько-Кримський.
82. Який з названих басейнів корисних копалин характеризується високою собівартістю, пов'язана з глибоким заляганням пластів невеликої потужності:
- Донецький;
 - Львівсько-Волинський;
 - Дніпровський;
 - Криворізький.
83. Розташуйте послідовно із сходу на захід центри буровугільної і кам'яновугільної галузей:
- Олександрія;
 - Павлоград;
 - Червоноград;
 - Ватутіне.
84. Розташуйте послідовно залізрудні басейни та родовища за обсягом видобування руди, починаючи з найбільшого:
- Кременчуцький;
 - Керченський;
 - Криворізький;
 - Білозерський.
85. Виберіть групу областей, які найменш забезпечені водними ресурсами:
- Донецька, Запорізька, Миколаївська, Херсонська;
 - Дніпропетровська, Полтавська, Сумська, Харківська;
 - Вінницька, Одеська, Тернопільська, Хмельницька;
 - Київська, Кіровоградська, Миколаївська, Черкаська.

86. Зазначте, яка галузь не входить до складу паливної промисловості:
- нафтова промисловість;
 - газова промисловість;
 - сланцева промисловість;
 - електроенергетика.
87. Нинівське, Прилуцьке, Бориславське, Долинське — є родовищами:
- газу;
 - нафти;
 - сірки;
 - кам'яного вугілля.
88. Яке з названих родовищем є газовим родовищем:
- Сфремівське;
 - Слов'янське;
 - Бориславське;
 - Іршанське.
89. Котре з названих є родовищем ртуті:
- Сфремівське;
 - Слов'янське;
 - Бориславське;
 - Микитівське.
90. Вкажіть область, у якій зосереджене найбільше родовище титанових руд:
- Миколаївська;
 - Житомирська;
 - Дніпропетровська;
 - Донецька.
91. Розташуйте послідовно з півночі на південь залізорудні басейни і райони:
- Білозерський басейн;
 - Криворізький басейн;
 - Кременчуцький район;
 - Керченський басейн.
92. Виберіть варіант, у якому зазначено галузі кольорової металургії, що працюють на власній сировині і є найбільш забезпеченими нею:
- алюмінієва і цинкова;
 - титанова і ртутна;
 - нікелева і магнієва;
 - мідна і свинцева.
93. Визначте, яке з перелічених родовищ не є родовищем кам'яної солі:
- Артемівське;
 - Слов'янське;
 - Солотвинське;
 - Стебниківське.

94. Розташуйте послідовно із заходу на схід центри виробництва фосфатних добрив в Україні:
- Костянтинівка;
 - Суми;
 - Одеса;
 - Вінниця.
95. Вкажіть послідовність розміщення центрів азотних добрив, починаючи із заходу на схід:
- Кам'янське;
 - Черкаси;
 - Северодонецьк;
 - Рівне.
96. Визначте послідовність розташування центрів нафтопереробки в Україні зі сходу на захід:
- Кременчук;
 - Одеса;
 - Дрогобич;
 - Лисичанськ.
97. Вкажіть, у якому з названих міст розташований глиноземний завод:
- Дніпро;
 - Донецьк;
 - Запоріжжя;
 - Миколаїв.
98. Зазначте, який основний чинник впливає на розміщення підприємств важкого машинобудування:
- наявність робочої сили;
 - транспортний;
 - споживчий;
 - сировинний.
99. Вкажіть галузь точного машинобудування:
- приладобудування;
 - суднобудування;
 - тракторобудування;
 - верстатобудування.
100. Визначте форму організації виробництва, коли кінцевий продукт одного виробництва є сировиною для іншого:
- спеціалізація;
 - комбінування;
 - кооперування;
 - концентрація.
101. Зазначте найбільший центр тракторобудування в Україні:
- Вінниця;
 - Київ;
 - Кропивницький;
 - Харків.

102. Котрий із зазначених об'єктів електроенергетики розташований у Харківській області?
а) Добротвірська ТЕС;
б) Зміївська ТЕС;
в) Бурштинська ТЕС;
г) Вуглегірська ТЕС.
103. Вкажіть послідовність розташування ГЕС, рухаючись від гирла р. Дніпро:
а) Каховська;
б) Канівська;
в) Кременчуцька;
г) Дніпрогес.
104. З переліку об'єктів електроенергетики виділіть АЕС:
а) Кременчуцька;
б) Запорізька;
в) Південноукраїнська;
г) Київська.
105. Розташуйте послідовно з північного заходу на південний схід міста – супутники АЕС:
а) Южноукраїнськ;
б) Нетішин;
в) Вараш;
г) Енергодар.
106. Яка з названих АЕС в Україні є найпотужнішою:
а) Запорізька;
б) Хмельницька;
в) Рівненська;
г) Південноукраїнська.
107. Вкажіть область, у якій розташована Теребле-Ріцька ГЕС:
а) Львівська;
б) Івано-Франківська;
в) Закарпатська;
г) Чернівецька.
108. Визначте варіант, у якому вказано варіант електростанцій одного типу:
а) Ладизинська, Кременчуцька;
б) Каховська, Рівненська;
в) Південноукраїнська, Зміївська;
г) Бурштинська, Старобешівська.
109. Розташуйте послідовно із заходу на схід центри легкої промисловості України:
а) Полтава;
б) Богуслав;
в) Донецьк;
г) Тернопіль.
110. Якій галузі за обсягом продукції належить перше місце в структурі легкої промисловості:
а) текстильна;
б) взуттєва;
в) трикотажна; г) швейна.

111. Вкажіть, яке місто є центром лляної промисловості:
а) Київ;
б) Кропивницький;
в) Житомир;
г) Херсон.
112. Розмістіть послідовно центри чорної металургії в порядку віддаленості від Криворізького залізородного басейну:
а) Запоріжжя;
б) Маріуполь;
в) Макіївка;
г) Донецьк.
113. Визначте послідовність етапів металургійного виробництва:
а) виплавка сталі;
б) виробництво прокату;
в) виплавка чавуну;
г) збагачення руди.
114. Визначте чинник, який вплинув на розвиток чорної металургії в Придніпров'ї:
а) транспортний;
б) екологічний;
в) природно-ресурсний;
г) споживчий.
115. Вкажіть найпотужніший металургійний комбінат України:
а) “Запоріжсталь”;
б) “Азовсталь”;
в) “Асцелор Міттал Стіл Кривий Ріг”;
г) Металургійний комбінат *імені Ілліча*.
116. Вкажіть виробництво, яке не належить до чорної металургії:
а) виробництво чавуну;
б) виробництво металургійного устаткування;
в) видобуток і збагачення залізної руди;
г) видобуток і збагачення марганцевої руди.
117. Виберіть показник, який характеризує питому вагу сільськогосподарських угідь у земельному фонді України:
а) 60%;
б) 70%;
в) 80%;
г) 90%.
118. Розташуйте адміністративні області України за часткою розораності у них сільськогосподарських земель, починаючи з найнижчого показника:
а) Чернігівська;
б) Вінницька;
в) Херсонська;
г) Закарпатська.

119. Виберіть галузь легкої промисловості, центри якої зосереджені на Поліссі:
- а) вовняна;
 - б) лляна;
 - в) бавовняна;
 - г) конопле-джутова.
120. Зазначте, яка технічна культура є головною на Поліссі:
- а) кукурудза;
 - б) льон-довгунець;
 - в) соняшник;
 - г) тютюн.
121. Вкажіть агропромислову зону, на території якої розвивається молочно-м'ясне скотарство, зернове та цукрово-бурякове господарство:
- а) степ;
 - б) лісостеп;
 - в) Полісся;
 - г) Карпатська.
122. Вкажіть агропромислову зону, на території якої розвивається м'ясо-молочне скотарство, виноградарство, баштанництво:
- а) Лісостепова;
 - б) Поліська;
 - в) Степова;
 - г) Карпатська.
123. Виберіть найбільший центр тракторобудування в Україні:
- а) Вінниця;
 - б) Київ;
 - в) Кропивницький;
 - г) Харків.
124. Розташуйте послідовно із заходу на схід центри верстатобудування в Україні:
- а) Харків;
 - б) Київ;
 - в) Дніпро;
 - г) Бердичів.
125. Розташуйте послідовно із заходу на схід центри деревообробної промисловості України:
- а) Мукачеве;
 - б) Шостка;
 - в) Надвірна;
 - г) Біла Церква.
126. Уточніть спеціалізацію підприємств, які розташовані у Великому Бичкові, Перечині, Славуті, Коростені:
- а) целюлозно-паперова;
 - б) деревообробка;
 - в) лісохімія;
 - г) меблева.

127. У якій з областей розміщено найбільше підприємств кольорової металургії:
- а) Донецька область;
 - б) Херсонська область;
 - в) Вінницька область;
 - г) Харківська область.
128. Розташуйте послідовно центри кольорової металургії, рухаючись із заходу на схід:
- а) Костянтинівка;
 - б) Калуш;
 - в) Побузьке;
 - г) Запоріжжя.
129. Оберіть групу міст, які є центрами виробництва цементу:
- а) Житомир, Черкаси;
 - б) Краматорськ, Бахчисарай;
 - в) Канів, Малин;
 - г) Переяслав-Хмельницький, Львів.
130. Зазначте, яка галузь хімічної промисловості орієнтується на споживача:
- а) виробництво кам'яної солі;
 - б) виробництво соди;
 - в) виробництво калійних добрив;
 - г) виробництво сірчаної кислоти.
131. Виберіть із запропонованого переліку головну складову експорту України:
- а) зернові;
 - б) чорні метали та вироби з них;
 - в) продукція машинобудування;
 - г) продукція хімічної промисловості.
132. Визначте правильний варіант ланцюга “галузь – підприємство – головний чинник розміщення підприємства”:
- а) гірничодобувна промисловість – сталеплавильна – наука;
 - б) лісова промисловість – виробництво меблів – споживач;
 - в) харчова промисловість – виробництво сиру – кваліфіковані кадри;
 - г) сільське господарство – виробництво зерна – енергетичні ресурси.
133. Оберіть правильний варіант ланцюга “галузь – продукція – основний чинник розміщення”:
- а) чорна металургія – алюміній – дешева електроенергія;
 - б) харчова промисловість – хлібобулочні вироби – сировина;
 - в) машинобудування – літаки – кваліфіковані кадри;
 - г) лісова промисловість – меблі – робоча сила.
134. Високопільське родовище у Дніпропетровській області дає змогу постачати сировину для:
- а) виробництва труб;
 - б) алюмінієвої промисловості;
 - в) для виробництва сталі;
 - г) для виробництва фарб, якісного скла.

135. Вкажіть правильну спеціалізацію області:
- Тернопільська — добування корисних копалин;
 - Донецька — вирощування зернових;
 - Дніпропетровська — чорна металургія;
 - Київська — кольорова металургія.
136. Вкажіть головний чинник, що визначає розміщення АЕС:
- природні умови;
 - наявність паливної сировини і водних ресурсів;
 - наявність споживача і дефіцит паливних ресурсів;
 - робоча сила і транспорт.
137. Вкажіть чинники, котрі є визначальними в розміщенні підприємств будівельної галузі:
- науково-технічний, водний;
 - трудовий, споживчий;
 - споживчий, сировинний;
 - паливно-енергетичний, екологічний.
138. Вкажіть, до якої форми промислової організації виробництва належить Придніпров'я:
- промислова агломерація;
 - промисловий вузол;
 - промисловий центр;
 - промисловий район.
139. Розташуйте послідовно із заходу на схід адміністративні одиниці Причорноморського економічного району:
- Миколаївська обл.;
 - Одеська обл.;
 - АР Крим;
 - Херсонська обл.
140. Визначте, для якого промислового вузла характерне таке сполучення галузей: чорна металургія, вугільна промисловість, коксохімія, важке машинобудування:
- Полтавський;
 - Львівський;
 - Донецький;
 - Дніпропетровський.
141. Визначте відповідність між областями та особливостями їх географічного положення:
- | | |
|-------------------|--|
| 1. Волинська. | А. Має спільний кордон з чотирма країнами Європейського Союзу. |
| 2. Тернопільська. | Б. Південна частина області омивається водами Чорного моря. |
| 3. Миколаївська. | В. Має спільний державний кордон з країною – членом ЄС та країною – членом СНД. |
| 4. Закарпатська. | Г. Майже вся східна межа області проходить по річці Збруч.
Д. Має спільний державний кордон з Росією. |

142. Визначте відповідність між географічними об'єктами та областями України, на території яких вони розташовані
- | | |
|---------------------|---|
| 1. г. Берда. | А. Черкаська область. |
| 2. Бердянська коса. | Б. Чернівецька область. |
| 3. м. Рахів. | В. Запорізька область. |
| 4. Канівські гори. | Г. Закарпатська область.
Д. АР Крим. |
143. Вкажіть відповідність між географічними об'єктами та областями України, у межах яких вони розташовані:
- | | |
|----------------------------|------------------------------|
| 1. Заповідник “Розточчя”. | А. Харківська. |
| 2. Озеро Світязь. | Б. Волинська. |
| 3. Ладжинське водосховище. | В. Львівська. |
| 4. Трипільська ДРЕС | Г. Київська
Д. Вінницька. |
144. Вкажіть відповідність між природними об'єктами та областями України, у межах яких вони знаходяться:
- | | |
|---|---|
| 1. Гора Берда | А. Чернівецька область |
| 2. Озеро Синевир | Б. Миколаївська область. |
| 3. Біосферний заповідник “Асканія-Нова” | В. Херсонська область. |
| 4. Дендропарк “Софіївка” | Г. Закарпатська область.
Д. Черкаська область. |
145. Визначте відповідність між назвами природоохоронних об'єктів та їхнім природно-заповідним статусом:
- | | |
|-------------------|--|
| 1. Олександрія. | А. Ботанічний сад. |
| 2. Чорноморський. | Б. Біосферний заповідник. |
| 3. Нікітський. | В. Дендрологічний парк. |
| 4. Карадазький. | Г. Зоологічний парк.
Д. Природний заповідник. |
146. Визначте відповідність між пасмами Українських Карпат та їхніми характерними ознаками:
- | | |
|--------------------------------------|--|
| 1. Полонинсько-Чорногірські Карпати. | А. Охоплює Рахівські і Чивчинські гори. |
| 2. Мармароський масив. | Б. Тут розташовані найважливіші перевали, які сполучають Передкарпаття і Закарпаття. |
| 3. Вододільно-Верховинський хребет. | В. Пасмо має іншу назву “Скибові Карпати”. |
| 4. Зовнішні Карпати. | Г. Височить окремими конусами згаслих вулканів.
Д. Тут розташовані шість вершин, висота яких понад 2 тис. метрів. |

147. Знайдіть відповідність між географічними точками на території України та їхніми назвами:

- | | |
|------------------------------------|--------------------------------|
| 1. мис Сарич. | А. Крайня східна точка. |
| 2. с. Ділове. | Б. Географічний центр України. |
| 3. с. Соломонове (околиці м. Чоп). | В. Крайня західна точка. |
| 4. с. Рання Зоря | Г. Географічний центр Європи. |
| | Д. Крайня південна точка. |

148. Зазначте відповідність між річками і річковими басейнами, до яких вони належать:

- | | |
|--------------|-----------------------|
| 1. Інгулець. | А. Басейн р. Десна. |
| 2. Прут. | Б. Басейн р. Вісла. |
| 3. Сан. | В. Басейн р. Дніпро. |
| 4. Сейм. | Г. Басейн р. Дністер. |
| | Д. Басейн р. Дунай. |

149. Вкажіть відповідність між містами та їх людністю:

- | | |
|------------------|--------------------|
| 1. Львів | А. 300 тис. осіб. |
| 2. Дніпро | Б. 60 тис. осіб. |
| 3. Кропивницький | В. 810 тис. осіб. |
| 4. Жмеринка | Г. 1180 тис. осіб. |
| | Д. 10 тис. осіб. |

150. Вкажіть відповідність між типами населених пунктів за кількістю жителів та людністю міст:

- | | |
|---------------------------------------|---------------|
| 1. Малі (до 50 тис. осіб). | А. Умань. |
| 2. Середні (50 – 100 тис. осіб). | Б. Керч. |
| 3. Великі (100 – 250 тис. осіб). | В. Глухів. |
| 4. Дуже великі (250 – 500 тис. осіб). | Г. Херсон. |
| | Д. Запоріжжя. |

151. Визначте відповідність між етнічними землями, що перебувають за межами державної території України, і країнами, до складу яких їх нині відносять:

- | | |
|-----------------|--------------|
| 1. Берестейщина | А. Польща. |
| 2. Кубань | Б. Росія. |
| 3. Холмщина | В. Білорусь. |
| 4. Марморощина | Г. Угорщина. |
| | Д. Румунія. |

152. Визначте відповідність між датами і подіями, пов'язаними з історією формування державної території сучасної України:

- | | |
|------------|--|
| 1. 1939 р. | А. Кримська область увійшла до складу Української РСР. |
| 2. 1940 р. | Б. До складу Української РСР увійшли Північна Буковина та Південна Бессарабія. |
| 3. 1945 р. | В. Україна увійшла до складу СРСР. |
| 4. 1954 р. | Г. До складу Української РСР увійшла Закарпатська область. |
| | Д. Західна Україна увійшла до складу Української РСР. |

153. Вкажіть відповідність між старими та сучасними назвами адміністративних одиниць України:

- | | |
|---------------------------|---------------------------|
| 1. Сталінська обл. | А. АР Крим. |
| 2. Ворошиловградська обл. | Б. Івано-Франківська обл. |
| 3. Кримська обл. | В. Луганська обл. |
| 4. Станіславська обл. | Г. Кіровоградська обл. |
| | Д. Донецька обл. |

154. Визначте відповідність між прізвищами українських вчених і назвами їхніх праць:

- | | |
|-------------------------|---|
| 1. Степан Рудницький. | А. “Праці етнографічно-статистичної експедиції в Західно-Руський край”. |
| 2. Костянтин Воблій. | Б. “Географія Української РСР”. |
| 3. Володимир Кубійович. | В. Перший підручник “Економічна географія України”. |
| 4. Олексій Діброва. | Г. “Енциклопедія українознавства”. |
| | Д. “Коротка географія України. Антропогеографія”. |

155. Вкажіть відповідність між історико-географічними назвами та адміністративними областями, що повністю або частково входять до їхнього складу:

- | | |
|--------------|-----------------|
| 1. Донщина | А. Сумська. |
| 2. Сіверщина | Б. Чернівецька. |
| 3. Буковина | В. Житомирська. |
| 4. Таврія | Г. Херсонська. |
| | Д. Донецька. |

156. Зазначте відповідність між функціями міст і населеними пунктами:

- | | |
|-------------------------------|--------------|
| 1. Залізничний вузол. | А. Вилкове. |
| 2. Місто-курорт. | Б. Горлівка. |
| 3. Промисловий центр. | В. Яремче. |
| 4. Багатофункціональне місто. | Г. Лозова. |
| | Д. Харків. |

157. Знайдіть відповідність між басейнами і регіонами зосередження паливних корисних копалин та центрами їх видобування:

- | | |
|--------------------------|------------------|
| 1. Донбас. | А. Нововолинськ. |
| 2. Львівсько-Волинський. | Б. Павлоград. |
| 3. Дніпровський. | В. Олександрія. |
| 4. Карпатський. | Г. Шебелинка. |
| | Д. Косів. |

158. Визначте відповідність між сільськогосподарськими культурами та областями, де їх переважно вирощують:

- | | |
|--------------------|------------------|
| 1. Цукрові буряки. | А. Чернігівська. |
| 2. Жито. | Б. Донецька |
| 3. Виноград. | В. Вінницька |
| 4. Пшениця. | Г. Закарпатська |
| | Д. Херсонська |

159. Визначте відповідність між галузями спеціалізації сільського господарства та сільськогосподарськими зонами і районами:

- | | |
|--------------------------------------|--------------|
| 1. Молочно-м'ясне скотарство. | А. Степ. |
| 2. Буряківничо-зернове господарство. | Б. Лісостеп. |
| 3. Зернове і олійне господарство. | В. Полісся. |
| 4. Вівчарство. | Г. Карпати. |
| | Д. Крим. |

160. Вкажіть відповідність між галузями машинобудування та їхніми центрами:

- | | |
|-------------------------|---------------|
| 1. Автомобілебудування. | А. Запоріжжя. |
| 2. Літакобудування. | Б. Миколаїв. |
| 3. Тракторобудування. | В. Вінниця. |
| 4. Суднобудування. | Г. Харків. |
| | Д. Київ |

161. Визначте відповідність між продукцією та центрами машинобудування:

- | | |
|---------------------------------|-----------------|
| 1. Важке машинобудування. | А. Запоріжжя. |
| 2. Енергетичне машинобудування. | Б. Дніпро. |
| 3. Автомобілебудування. | В. Львів. |
| 4. Бурякозбиральні комбайни. | Г. Краматорськ. |
| | Д. Харків. |

162. Вкажіть відповідність між продукцією та центрами машинобудування:

- | | |
|-----------------------------|-----------------|
| 1. Дизелі. | А. Кременчук. |
| 2. Вугільні комбайни. | Б. Первомайськ. |
| 3. Вантажні автомобілі. | В. Херсон. |
| 4. Зернозбиральні комбайни. | Г. Горлівка. |
| | Д. Рівне. |

163. Знайдіть відповідність між назвами транспортних засобів та центрами їх виробництва:

- | | |
|----------------|----------------|
| 1. Тролейбуси. | А. Кам'янське. |
| 2. Автобуси. | Б. Львів. |
| 3. Вагони. | В. Київ. |
| 4. Тепловози. | Г. Полтава. |
| | Д. Луганськ. |

164. Визначте відповідність між продукцією хімічної промисловості та центрами, у яких її виробляють:

- | | |
|----------------------|-------------------|
| 1. Азотні добрива. | А. Одеса. |
| 2. Фосфорні добрива. | Б. Костянтинівка. |
| 3. Сірчана кислота. | В. Лисичанськ. |
| 4. Анілінові фарби. | Г. Рубіжне. |
| | Д. Київ |

165. Вкажіть відповідність між продукцією кольорової металургії та центрами металургійного виробництва:

- | | |
|----------------------------|-------------------|
| 1. Цинк. | А. Побузьке. |
| 2. Алюміній. | Б. Костянтинівка. |
| 3. Нікель. | В. Запоріжжя. |
| 4. Латунь і мідний прокат. | Г. Миколаїв. |
| | Д. Артемівськ. |

166. Вкажіть відповідність між галузями чорної та кольорової металургії та центрами виробництва:

- | | |
|--------------------------------|----------------------|
| 1. Виробництво труб. | А. м. Новомосковськ. |
| 2. Виробництво феросплавів. | Б. м. Севастополь. |
| 3. Виробництво титану. | В. м. Іршанськ. |
| 4. Виробництво сурми та ртуті. | Г. м. Вишкове. |
| | Д. м. Миколаїв. |

167. Визначте відповідність між ТЕС та областями, у яких вони знаходяться:

- | | |
|---------------------|-------------------------------|
| 1. Бурштинська ТЕС. | А. Донецька область. |
| 2. Трипільська ТЕС. | Б. Івано-Франківська область. |
| 3. Зміївська ТЕС. | В. Київська область. |
| 4. Зуївська ТЕС. | Г. Вінницька область |
| | Д. Харківська область. |

168. Встановіть відповідність між типами електростанцій та їхніми назвами:

- | | |
|------------------|------------------|
| 1. Атомна. | А. Донузлавська. |
| 2. Теплова. | Б. Бурштинська. |
| 3. Гідрравлічна. | В. Хмельницька. |
| 4. Вітрова. | Г. Дністровська. |
| | Д. Кримська. |

169. Визначте відповідність між продукцією промисловості будівельної матеріалів і центрів, де її виробляють:

- | | |
|-------------------------------|-----------------|
| 1. Цемент. | А. Донецьк. |
| 2. Цегла. | Б. Амвросіївка. |
| 3. Залізобетонні конструкції. | В. Ірпінь. |
| 4. Будівельна кераміка. | Г. Житомир. |
| | Д. Львів. |

170. Визначте відповідність між підприємствами будівельної промисловості та центрами їх розміщення:

- | | |
|---|---------------|
| 1. Цементна. | А. Здолбунів. |
| 2. Скляна. | Б. Запоріжжя. |
| 3. Порцеляно-фаянсова. | В. Коростень. |
| 4. Збірних залізобетонних і бетонних конструкцій. | Г. Маріуполь. |
| | Д. Бережани. |

171. Визначте відповідність між геологічними структурами і корисними копалинами:

- | | |
|-----------------------------------|-----------------------------------|
| 1. Український кристалічний щит. | А. Природний газ, каолін, вапняк. |
| 2. Дніпровсько-Донецька западина. | Б. Буре вугілля, крейда, глина. |
| 3. Причорноморська западина. | В. Графіт, мармур, апатити. |
| 4. Передкарпатський прогин. | Г. Нафта, газ, кам'яна сіль. |
| | Д. Нафта, газ, калійна сіль. |

172. Визначте відповідність між корисними копалинами і назвами родовищ або басейнів:

- | | |
|------------------|--|
| 1. Залізна руда. | А. Кременчуцький, Білозерський басейни. |
| 2. Ртутна руда. | Б. Микитівське родовище. |
| 3. Сірка. | В. Іршанське, Самотканське родовища. |
| 4. Кухонна сіль. | Г. Роздільське, Новояворівське родовища. |
| | Д. Слов'янське, Артемівське родовища. |

173. Вкажіть відповідність між видами корисних копалин та їхніми родовищами:

- | | |
|---------------------|-------------------|
| 1. Кам'яне вугілля. | А. Артемівське. |
| 2. Нафта. | Б. Кременчуцьке. |
| 3. Залізна руда. | В. Павлоградське. |
| 4. Кам'яна сіль. | Г. Стебницьке. |
| | Д. Прилуцьке. |

174. Визначте відповідність між видами транспорту та їхніми найважливішими вузлами:

- | | |
|--------------------|-------------------|
| 1. Морський. | А. Бориспіль. |
| 2. Трубопровідний. | Б. Ужгород. |
| 3. Залізничний. | В. Козятин. |
| 4. Повітряний. | Г. Кропивницький. |
| | Д. Одеса. |

175. Вкажіть відповідність між промисловими центрами та продукцією підприємств, які у них зосереджені:

- | | |
|-------------------|-----------------------|
| 1. Горлівка. | А. Тепловози. |
| 2. Маріуполь. | Б. Літаки. |
| 3. Костянтинівка. | В. Вугільні комбайни. |
| 4. Луганськ. | Г. Виробництво цинку. |
| | Д. Вагони. |

176. Визначте відповідність між видами транспорту та їхніми основними характеристиками:

- | | |
|-------------------|--|
| 1. Залізничний. | А. Наймолодший вид транспорту, що виконує важливі функції у зв'язках України з іншими країнами, насамперед у перевезенні пасажирів. |
| 2. Автомобільний. | Б. Відіграє важливу роль в експортно-імпорتنих і каботажних перевезеннях. |
| 3. Морський. | В. Здійснює перевезення різноманітних вантажів і пасажирів переважно на короткі й середні відстані. |
| 4. Авіаційний. | Г. Відіграє важливу роль у транспортуванні нафти, нафтопродуктів і природного газу.
Д. Виконує важливу роль як у внутрішньодержавному, так і в міждержавному сполученні на далекі відстані. |

177. Вкажіть відповідність між центрами гірничо-хімічної промисловості України та її продукцією:

- | | |
|---------------|------------------|
| 1. Солотвино. | А. Сірка. |
| 2. Розділ. | Б. Калійна сіль. |
| 3. Калуш. | В. Фосфорити. |
| 4. Кролевець. | Г. Кам'яна сіль. |
| | Д. Торф. |

178. Вкажіть відповідність між продукцією основної хімії та центрами виробництва:

- | | |
|----------------------|----------------------|
| 1. Фосфатні добрива. | А. Калуш. |
| 2. Азотні добрива. | Б. Вінниця. |
| 3. Калійні добрива. | В. Дніпродзержинськ. |
| 4. Сода. | Г. Шостка. |
| | Д. Слов'янськ. |

179. Визначте відповідність між продукцією хімічної промисловості та центрами хімічного виробництва:

- | | |
|----------------------------------|-------------------|
| 1. Виробництво шин. | А. Біла Церква. |
| 2. Синтетичне волокно. | Б. Артемівськ. |
| 3. Видобуток кам'яної солі. | В. Житомир |
| 4. Виробництво сірчаної кислоти. | Г. Костянтинівка. |
| | Д. Чернігів. |

180. Вкажіть відповідність між формами територіальної структури господарства та визначеннями, які їм відповідають:

- | | |
|----------------------------|--|
| 1. Промисловий пункт. | А. Це населений пункт, де зосереджено кілька промислових підприємств, що спеціалізуються на певному виробництві. |
| 2. Промисловий вузол. | Б. Це територіально-виробничий комплекс із чіткою промисловою спеціалізацією виробництва. |
| 3. Промисловий район. | В. Це сукупність промислових центрів, що пов'язані між собою інфраструктурою та робочою силою. |
| 4. Промислова агломерація. | Г. Це сукупність підприємств у межах промислових районів, що належать до різних галузей промисловості.
Д. Це об'єднання взаємопов'язаних галузей виробництва на певній території. |

Рівень 2

1. Геополітична характеристика України.
2. Форма правління, що має місце в Україні, вид державного устрою. Структура влади.
3. Назвіть та поясніть показники економічного та соціального розвитку, що використовуються для порівняння різних держав.
4. Назвіть відомі вам історико-географічні землі України. Які з них опинилися на теренах країн-сусідів (і яких?)
5. Окресліть розвиток громадянського суспільства в Україні на прикладі зміни кількості, структури легалізованих об'єднань громадян з 2000 по 2015 рр.
6. Поясніть закономірності розміщення економічно активного населення на території України.
7. Охарактеризуйте кількісний та якісний склад робочої сили в Україні. Поясніть чим відрізняється "робоча сила" від "економічно активного населення"?
8. Охарактеризуйте галузеву структуру зайнятості населення України на сучасному етапі.
9. Поясніть, які історичні події впливали на формування західної та східної Української діаспори.
10. Гострота проблеми зникаючих сіл в Україні: регіон локалізації явища, причини, наслідки.
11. Дайте характеристику усіх видів міграцій населення України.
12. Охарактеризуйте національний склад населення України та географію найчисельніших національних меншин.
13. Охарактеризуйте соціально-економічні чинники, які детермінують рівень народжуваності в Україні.
14. Охарактеризуйте релігійну ситуацію в Україні. Охарактеризуйте регіональні відмінності у розподілі головних релігійних конфесій.

15. Доведіть, або спростуйте, що Україна належить до держав індустріально-аграрного типу.
16. Поясніть, які галузі господарства України є найперспективнішими з огляду на глобалізаційні процеси.
17. Визначте позитивні та негативні риси економіко-географічного положення України.
18. Які форми міжнародного економічного співробітництва наявні в Україні? Конкретизуйте їх географічну локалізацію.
19. Окресліть вразливість експортного потенціалу України.
20. Охарактеризуйте структурну диверсифікованість експортного й імпортного потенціалу України.
21. Особливості розвитку та структури господарства України.
22. Природно-ресурсний потенціал України.
23. Електроенергетика України.
24. Окресліть зміни у структурі енергоспоживання України за останні роки.
25. Агропромисловий комплекс України.
26. Лісовиробничий комплекс України.
27. Машинобудівний комплекс України.
28. Металургійний комплекс України.
29. Основні родовища титанової та нікелевої руд; основні родовища нікелю; основні родовища ртутних руд; основні родовища хромітових руд.
30. Назвіть основні центри коксохімії.
31. Назвіть основні регіони розташування металургійних підприємств повного циклу. Назвіть найбільші комбінати.
32. Назвіть основні центри виробництва труб в Україні.
33. Назвіть основні центри з виплавлення свинцю і міді.
34. Які основні родовища бокситів в Україні ви можете назвати?
35. Комплекс хімічної індустрії: хімія органічного синтезу, основна хімія, гірничохімія.
36. Будівельний комплекс України.
37. Паливно-енергетичний комплекс України.
38. Транспортний комплекс України.
39. Рекреація і туризм в Україні.
40. Економіко-географічне районування України.
41. Донецький економічний район.
42. Західно-Поліський економічний район.
43. Карпатський економічний район.
44. Північно-Східний економічний район.
45. Подільський економічний район.
46. Придніпровський економічний район.
47. Причорноморський економічний район.
48. Центральньо-Поліський економічний район.
49. Центральньо-Український економічний район.
50. Сучасний стан господарства України: основні ризики та перспективи.
51. Окресліть головні геополітичні загрози України.
52. Шляхи подолання бідності в Україні (Ваш варіант бачення).

Основні геополітичні та економічні характеристики України

Україна — держава у східній Європі, з півдня омивається Чорним та Азовським морями.

Кількість населення Територія	42,2 млн осіб (на 1.01.2019 р.; без урахування тимчасово окупованої території АР Крим і м. Севастополя); 603,5 тис. км ² (за даними Державної служби України з питань геодезії, картографії та кадастру)
Протяжність із заходу на схід з півночі на південь кордонів	1316 км 893 км 6993,63 км
Країні точки на півночі на півдні на заході на сході	с. Грем'яч (Чернігівська обл.) мис Сарич (Автономна Республіка Крим) м. Чоп (Закарпатська обл.) с. Рання Зоря (колишне с. Червона Зірка Луганської обл.)

Суміжні держави

Польща, Словаччина, Угорщина, Румунія, Молдова, Російська Федерація, Білорусь

Клімат

У межах Східноєвропейської рівнини (95% площі), а також середньовисотних Українських Карпат та Кримських гір (5% площі) є, в основному, помірно континентальним, на південному березі Криму має риси субтропічного.

Найбільші річки

(за даними Статистичного щорічника України за 2018 р. – С.22; км)

Дніпро	1121	Інгулець	549
Дністер	925	Псел	520
Південний Буг	806	Случ	451
Сіверський Донець	700	Стир	424
Горинь	577	Західний Буг	401
Десна	575	Оріль	346

Найбільші озера і лимани

(за даними Статистичного щорічника України за 2018 р. – С.23; км²)

Озера		Лимани	
Ялпуг	149	Дніпровський	800
Кагул	90	Утлоцький	700
Кугурлуй	82	Дністровський	360
Сасик	75,3	Сасик, Кундук	205
Катлабуг	68	Молочний	168
		Бузький	162

Найвищі гірські вершини

Українські Карпати

Говерла	2061
Бребенескул	2032
Петрос	2020
Гутин Томнатик	2016
Ребра	2001
Піп Іван	1936

Кримські гори

Роман-Кош	1545
Демір-Капу	1540
Зейтін-Кош	1534
Кемаль-Егерек	1530
Еклізі-Бурун	1527
Ангара-Бурун	1453

(м)

Державний устрій

28 червня 1996 р. була прийнята Конституція, згідно з якою Україна є республікою. До її складу входять Автономна Республіка Крим і 24 адміністративні області, міста Київ та Севастополь. Ці міста мають спеціальний статус, який визначається законами України.

Главою держави є Президент, який виступає від її імені. Він обирається громадянами України на основі загального, рівного і прямого виборчого права шляхом таємного голосування строком на 5 років і не більше ніж на два строки підряд.

Єдиним органом законодавчої влади є парламент — Верховна Рада України.

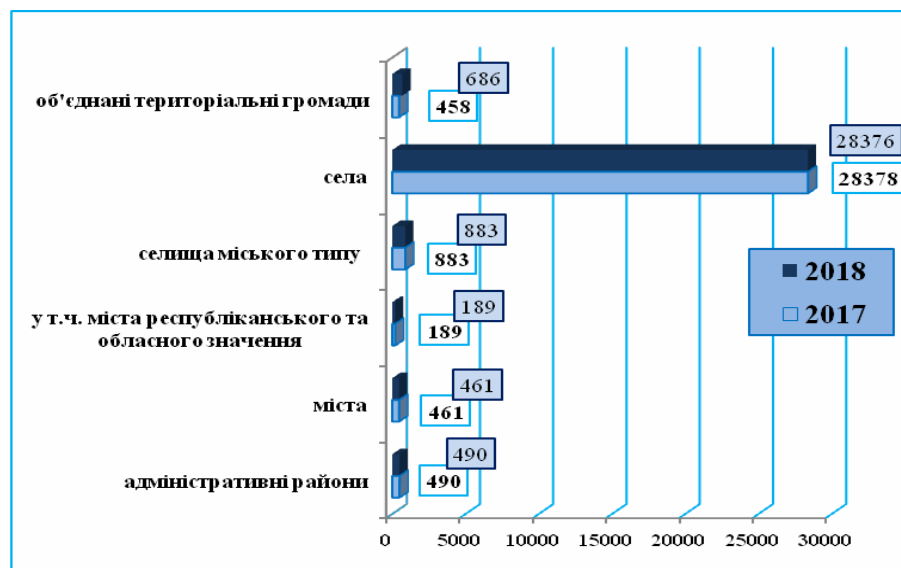
Вищий орган у системі органів виконавчої влади — Кабінет Міністрів України.

Носієм суверенітету і єдиним джерелом влади в державі є народ.

Головне державне свято — День Незалежності України 24 серпня.

Рисунок 1.1.

Кількість районів, міст, селищ міського типу, сільських населених пунктів по Україні, станом на 1 січня 2019 р.



Таблиця 1.1.

Кількість адміністративно-територіальних одиниць за регіонами (на 1 січня 2019 р.)

Адміністративні одиниці	Кількість районів	Адміністративні одиниці	Кількість районів
Автономна Республіка Крим	14	Миколаївська	19
області		Одеська	26
Вінницька	27	Полтавська	25
Волинська	16	Рівненська	16
Дніпропетровська	22	Сумська	18
Донецька	18	Тернопільська	17
Житомирська	23	Харківська	27
Закарпатська	13	Херсонська	18
Запорізька	20	Хмельницька	20
Івано-Франківська	14	Черкаська	20
Київська	25	Чернівецька	11
Кіровоградська	21	Чернігівська	22
Луганська	18	міста	
Львівська	20	Київ	10 ²
		Севастополь ¹	4 ²

Таблиця 1.2.

Міста республіканського та обласного підпорядкування

(станом на 2012 р.)

Області, АР Крим	Назва міста
Міста республіканського підпорядкування	
	<i>Київ</i>
	<i>Севастополь</i>
Міста обласного підпорядкування	
Автономна Республіка Крим (11)	Алушта
	Армянськ
	Джанкой
	Євпаторія
	Керч
	Саки
	<i>Сімферополь</i>
	Судак
	Феодосія
	Ялта
	Яни-Капу (до 2016 р. – <i>Краснопереконськ</i>)

¹ Включаючи м.Інкерман, смт Кача і сільські ради, підпорядковані міській раді.

² Райони у містах.

області	
Вінницька (6)	Вінниця Жмеринка Козятин Ладизин Могилів-Подільський Хмільник
Волинська (4)	Володимир-Волинський Ковель Луцьк Нововолинськ
Дніпропетровська (13)	Вільногірськ Дніпро (до 2016 р. – <i>Дніпропетровськ</i>) Жовті Води Кам'янське (кол. <i>Дніпродзержинськ</i>) Кривий Ріг Марганець Нікополь Новоосковськ Павлоград Першотравенськ Покров (кол. <i>Орджонікідзе</i>) Синельникове Тернівка
Донецька (28)	Авдіївка Бахмут (кол. <i>Артемівськ</i>) Вугледар Горлівка Дебальцеве Добропілля Докучаєвськ Донецьк Дружківка Єнакієве Жданівка Костянтинівка Краматорськ Лиман (кол. <i>Красний Лиман</i>) Макіївка Маріуполь Мирноград (кол. <i>Димитров</i>) Новгородівка Покровськ (кол. <i>Красноармійськ</i>) Селідове Слов'янськ Сніжне Торецьк (кол. <i>Дзержинськ</i>) Харцизьк Хрестівка (кол. <i>Кіровське</i>) Шахтарськ Чистякове (кол. <i>Торез</i>) Ясинувата

Житомирська (5)	Бердичів Житомир Коростень Малин Новоград-Волинський
Закарпатська (5)	Берегове Мукачево (до 2017 р. – <i>Мукачеве</i>) Ужгород Хуст Чоп
Запорізька (5)	Бердянськ Енергодар Запоріжжя Мелітополь Токмак
Івано-Франківська (5)	Болехів Івано-Франківськ Калуш Коломия Яремче
Київська (13)	Березань Біла Церква Бориспіль Бровари Буча Васильків Ірпінь Обухів Переяслав-Хмельницький Прип'ять Ржищів Славутич Фастів
Кіровоградська (4)	Знам'янка Кропивницький (до 2016 р. – <i>Кіровоград</i>) Олександрія Світловодськ
Луганська (14)	Алчевськ (кол. <i>Комунарськ</i>) Антрацит Брянка Голубівка (кол. <i>Кіровськ</i>) Довжанськ (кол. <i>Свердловськ</i>) Кадіївка (кол. <i>Стаханов</i>) Лисичанськ Луганськ Первомайськ Ровеньки Рубіжне Северодонецьк Сорокине (кол. <i>Краснодон</i>) Хрустальний (кол. <i>Красний Луч</i>)

Львівська (9)	Борислав Дрогобич Львів Моршин Самбір Стрий Трускавець Червоноград
Миколаївська (5)	Вознесенськ Миколаїв Очаків Первомайськ Южноукраїнськ
Одеська (7)	Білгород-Дністровський Ізмаїл Одеса Подільськ (кол. <i>Котовськ</i>) Теплодар Чорноморськ (кол. <i>Іллічівськ</i>) Южне
Полтавська (5)	Горішні Плавні (кол. – <i>Комсомольськ</i>) Кременчуг Лубни Миргород Полтава
Рівненська (4)	Дубно Вараш (кол. – <i>Кузнецовськ</i>) Острог Рівне
Сумська (7)	Охтирка Глухів Конотоп Лебедин Ромни Суми Шостка
Тернопільська (1)	Тернопіль Чортків
Харківська (7)	Ізюм Куп'янськ Лозова Люботин Первомайський Харків Чугуїв
Херсонська (3)	Каховка Нова Каховка Херсон
Хмельницька (6)	Кам'янець-Подільський Нетішин Славута Старокостянтинів Хмельницький Шепетівка

Черкаська (6)	Ватутіне Золотоноша Канів Сміла Умань Черкаси
Чернівецька (2)	Новодністровськ Чернівці
Чернігівська	Ніжин Прилуки Новгород-Сіверський Чернігів

Таблиця 1.3.
Кількість релігійних організацій
(на початок року)

	1996	2000	2002	2006	2008	2010	2014	2015	2018
Усього	17045	22518	25942	30507	32018	33351	37209	35317	36184
центри, управління (епархії, дієцезії)	161	221	248	299	328	350	386	379	384
громади	16583	21693	24919	29262	30670	31940	35646	33781	34637
монастирі	147	250	317	386	421	439	519	516	522
місії	79	184	242	309	333	341	369	365	367
братства	17	49	69	76	74	76	83	78	72
духовні навчальні заклади	58	121	147	175	192	199	206	198	202
Кількість священнослужителів	15315	21281	24509	28431	29441	30516	32456	31781	31952
Кількість недільних шкіл	4597	7165	9057	12522	12689	12758	13104	12406	13282

Із загальної кількості зареєстрованих релігійних організацій на початку 2019 р. (38066 громад) налічувалось: православних – 19765, католицьких – 5241, протестантських – 10613, громад іудейського віросповідання – 368, громад мусульман – 277, організацій східних культів – 165, інших організацій – 310. Крім того, діяли 1327 незареєстрованих релігійних організацій.

Таблиця 1.4.

Кількість легалізованих об'єднань громадян

(на початок року)

	2000 р.			2013 р.			2015 р.
	легалізовані об'єднання громадян	мають статус		легалізовані об'єднання громадян	мають статус		легалізовані об'єднання громадян
Усього	1208	164	1044	3943	821	3122	61323
Політичні партії	90	---	90	198	---	198	233
Громадські організації	1118	164	954	3745	821	2924	61090
громадські рухи	3	1	2	25	5	20	182
об'єднання національних та дружніх зв'язків	81	19	62	183	83	100	1727
молодіжні об'єднання	39	1	38	232	20	212	4765
у т.ч. студентські	11	---	11	17	1	16	257
дитячі організації	8	3	5	29	4	25	1344
жіночі організації	28	4	24	55	6	49	1136
об'єднання ветеранів та інвалідів	33	5	28	106	15	91	3557
об'єднання професійної спрямованості	199	13	186	707	96	611	6311
об'єднання (товариства) охорони природи (екологічні)	29	7	22	84	25	59	1869
об'єднання (товариства) охорони пам'яток історії та культури	2	---	2	8	2	6	488
оздоровчі та фізкультурно-спортивні об'єднання	154	10	144	433	51	382	10728
об'єднання по захисту населення від наслідків аварії на ЧАЕС	24	16	8	37	23	14	477
науково-технічні товариства, творчі об'єднання	111	17	94	162	41	121	741
освітні, культурно-виховні об'єднання	108	15	93	236	62	174	3861
інші громадські організації	299	53	246	1448	388	1060	23904
Крім того, спілки об'єднань громадян	47	2	45	149	13	136	718
благодійні організації (об'єднання, фонди)	---	---	---	1201	745	456	9799
профспілкові організації	---	---	---	173	---	173	4143

Таблиця 1.5.

Основні соціально-економічні показники*

	2000	2004	2008	2012	2014	2016	2018
1	2	3	4	5	6	7	8
Валовий внутрішній продукт, млрд. грн	170,1	345,1	948,1	1459,1	1586,9	2383,2	3558,7
у розрахунку на одну особу, грн	3436	7273	20495	32002	36904	55848	84190
Основні засоби (у фактичних цінах на кінець року), млрд. грн	829	1141	2550	9148	13752
Доходи населення, млн. грн	128,7	274,2	845,6	1457,9	1516,8	2002,4	3219,5
Індекс споживчих цін (грудень до грудня попереднього року), %	125,8	112,3	122,3	99,8	124,9	112,4	109,8
Індекс цін виробників промислової продукції (грудень до грудня попереднього року), %	120,8	124,1	123,0	100,3	131,8	135,7	114,2
Індекс цін реалізації продукції сільськогосподарськими підприємствами (до попереднього року), %	155,8	105,7	110,3	106,8	124,3	109,0	109,3
Зведений бюджет, млрд. грн	49,1	91,5	297,9	445,5	456,1	782,9	1184,3
дефіцит / профіцит бюджету	1,0	-11,0	-14,1	-50,8	-72,0	-54,8	-67,8
Обсяг реалізованої продукції промисловості (у фактичних цінах), млрд. грн	182,7	400,8	917,0	1400,7	1428,8	2128,9	3018,1
Продукція сільськогосподарства (у порівнянних цінах 2010 р.), млрд. грн	151,5	179,6	201,6	223,3	251,4	254,6	---
Інвестиції в основних капітал, млрд. грн	23,6	75,7	272,1	293,7	219,4	359,2	578,7
Введення в експлуатацію загальної площі житла, млн м ²	5,6	7,6	10,5	10,7	9,7	9,4	8,7
Перевезення вантажів усіма видами транспорту, млрд. т	1,5	1,7	2,0	1,9	1,6	1,5	1,6

Продовження таблиці 1.4

	2000	2004	2008	2012	2014	2016	2018
1	2	3	4	5	6	7	8
Відправлення пасажирів транспортом загального користування, млрд.	7,8	8,0	8,3	6,8	5,9	4,9	4,5
Роздрібний товарообіг підприємств (у фактичних цінах), млрд. грн	28,8	67,6	246,9	812,1	901,9	1175,3	—
Обсяг реалізованих послуг, млрд. грн	---	74,4	203,8	329,2	360,6	—	—
Експорт товарів і послуг, млрд. дол. США	18,1	38,0	78,7	82,4	64,1	45,1	57,3
Імпорт товарів і послуг, млрд. дол. США	15,1	31,1	92,0	91,4	60,8	44,6	63,5
Кількість постійного населення (на кінець року), млн. осіб	48,7	47,1	46,0	45,4	42,8	42,4	42,0
Природний приріст, скорочення (-) населення, тис. осіб	-373,0	-334,0	-243,9	-142,4	-166,4	-286,6	-251,8
Кількість зайнятих, тис. осіб	20175	20296	20972	20354,3	18073,3	16276,9	16360,9
Кількість безробітних (за методологією МОП), тис. осіб	2655,6	1906,7	1425,1	1657,2	1847,6	1678,2	1578,6
Рівень безробіття (за методологією МОП), %	11,6	8,6	6,4	7,5	9,3	9,3	8,8
Середньомісячна номінальна заробітна плата, грн.	230	590	1806	3026	3480	5183	8865

“—” у збірнику такі показники відсутні

*складено за даними Державної служби статистики України

Додаток 2

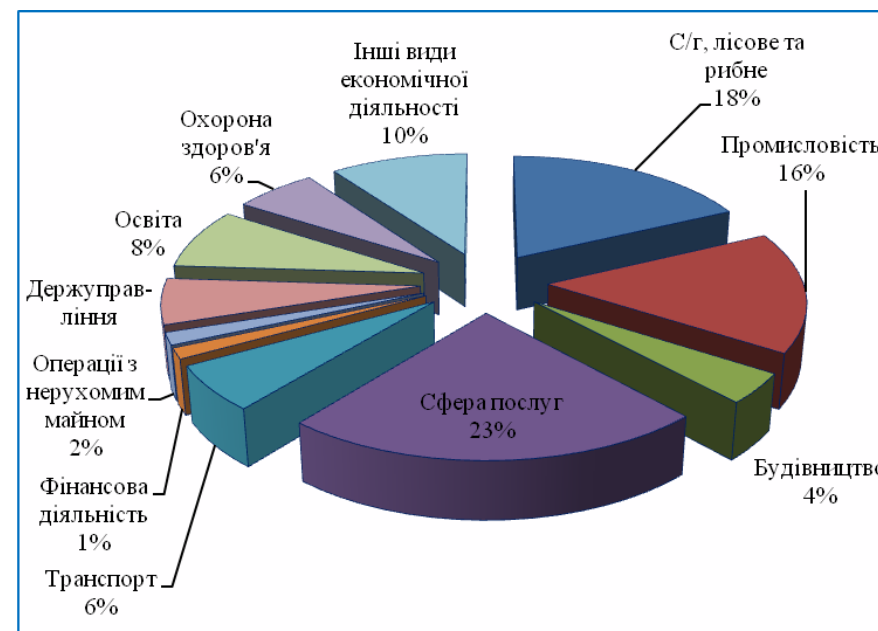
Таблиця 2.1.

Розподіл населення України на вікові групи за відношенням до праці, тис. осіб

Показники	1959	1970	1979	1989	1999	2001	2018
Всього	41869,0	47126,5	49609,3	51452,0	49850,9	48220,6	41983,6
у тому числі							
у віці молодшому за працездатний	11332,5	12539,3	11458,5	11828,3	10035,4	8743,7	6480,9
працездатному віці	24883,1	26246,7	28805,4	28721,6	28199,3	27984,7	28468,0
у віці старшому за працездатний	5653,4	8340,6	9337,7	10895,3	11616,2	11492,8	7034,6

Рисунок 2.1.

Структура зайнятості населення України за видами економічної діяльності, 2016 р.



Таблиця 2.2.

Кількість зайнятого населення України
за видами економічної діяльності

(тис. осіб)

	2000	2004	2006	2008	2012	2014	2016	2018
Усього	20175,0	20295,7	20730,4	20972,3	20354,3	18073,3	16276,9	16360,9
Сільське господарство, мисливство, лісове господарство	4334,1	3974,6	3633,3	3300,1	3492,4	3091,4	2866,5	2937,6
Промисловість	4598,3	4077,1	4036,9	3871,4	3303,6	2898,2	2494,8	2426,0
Будівництво	903,6	907,5	987,1	1043,4	902,2	746,4	644,5	665,3
Торгівля; Ремонт автомобілів, побутових виробів та предметів особистого вжитку. Діяльність готелів та ресторанів	3121,3	3971,2	4403,9	4744,4	4894,1	4274,8	3792,9	3937,7
Діяльність транспорту та зв'язку	1355,0	1374,9	1428,3	1465,8	1361,3	1113,4	997,2	995,1
Фінансова діяльність	166,1	216,1	283,9	394,9	324,3	286,8	225,6	214,0
Операції з нерухомим майном, оренда, інжиніринг та надання послуг підприємцям	815,9	919,9	1041,9	1150,4	1202,5	286,1	255,5	259,4
Державне управління й оборона	1198,6	1050,2	1033,7	1067,5	1079,4	959,5	973,1	939,3
Освіта	1609,7	1648,7	1690,5	1702,4	1672,9	1587,7	1441,4	1416,5
Охорона здоров'я та надання соціальної допомоги	1379,6	1348,9	1356,7	1369,9	1309,9	1150,5	1030,4	995,4
Інші види економічної діяльності	692,8	806,6	833,7	862,1	811,7	1678,5	1555	1574,6

Таблиця 2.3.

Середньомісячна номінальна заробітна плата штатних працівників за видами економічної діяльності у динаміці

(гривень)

	2010	2012	2014	2016	2018	
					грн	% до 2017
Усього	2239	3026	3480	5183	8865	125
Сільське господарство, мисливство, лісове господарство	1472	2086	2556	4195	7557	125
Промисловість	2570	3478	3988	5902	9633	126
Будівництво	1758	2516	2860	4731	7845	126
Торгівля; ремонт автотранспортних засобів і мотоциклів	1877	2704	3439	5808	9404	123
Тимчасове розміщування та організація харчування	1455	2055	2261	3505	5875	118
Діяльність транспорту	2555	3249	3755	5776	10010	127
Поштова та кур'єрська діяльність	1523	1843	1934	2818	5044	131
Інформація та телекомунікації	3161	4286	5176	9530	14276	119
Фінансова та страхова діяльність	4638	6012	7020	10227	16161	126
Операції з нерухомим майном	1856	2356	3090	4804	7329	123
Професійна, наукова та технічна діяльність	2869	4252	5290	8060	12124	121
Державне управління й оборона	2722	3415	3817	5953	12698	136
Освіта	1905	2530	2745	3769	7041	120
Охорона здоров'я та надання соціальної допомоги	1628	2202	2441	3400	5853	118
Мистецтво, спорт, розваги та відпочинок	1928	2886	3626	4844	7612	115

Таблиця 2.4.

Рівень безробіття населення (за методологією МОП)
за регіонами

Адміністративні одиниці	2000	2005	2010	2018
	<i>відсотків до економічно активного населення у віці 15-70 років</i>			
Україна	11,6	7,2	8,1	8,8
Автономна Республіка Крим	8,1	5,5	6,2	...
<i>області</i>				
Вінницька	8,7	6,8	10,0	9,9
Волинська	10,0	8,9	8,5	11,4
Дніпропетровська	11,6	5,5	7,1	8,0
Донецька	9,7	6,2	8,4	14,0
Житомирська	12,3	9,8	9,8	10,4
Закарпатська	11,6	7,0	8,7	10,0
Запорізька	12,7	6,9	7,5	9,9
Івано-Франківська	10,5	8,8	8,2	7,8
Київська	12,8	6,6	7,3	6,3
Кіровоградська	14,9	8,8	8,9	11,6
Луганська	11,2	7,8	7,2	15,1
Львівська	13,3	8,8	7,8	6,9
Миколаївська	14,6	9,3	8,4	9,6
Одеська	11,8	5,4	6,1	6,4
Полтавська	10,1	7,3	9,7	11,2
Рівненська	12,2	9,7	11,4	9,7
Сумська	14,9	7,6	10,6	8,7
Тернопільська	13,8	9,1	10,5	10,4
Харківська	13,1	6,6	7,2	5,3
Херсонська	13,9	8,9	8,6	10,3
Хмельницька	13,8	8,7	8,6	8,4
Черкаська	11,7	9,8	9,9	9,6
Чернівецька	17,1	9,8	8,5	7,9
Чернігівська	11,3	7,9	10,5	10,6
<i>міста</i>				
Київ	8,6	4,3	5,8	6,2
Севастополь	14,7	3,4	6,0	...

Таблиця 2.5.

Безробітні (за методологією МОП) за тривалістю пошуку роботи

	2000	2005	2010	2014	2016	2018
Усього безробітних, тис. осіб	2655,8	1600,8	1785,6	1847,6	1678,2	1578,6
у т.ч. особи, які шукали роботу, намагались організувати власну справу	2176,3	1523,5	1711,8	1801,6	1634,8	1546,0
з них за тривалістю пошуку роботи, %						
до 1 місяця	3,6	9,7	9,8	13,4	10,5	11,7
від 1 міс. до 3 міс.	11,2	23,4	24,3	31,7	26,2	28,8
від 3 міс. до 6 міс.	11,7	20,4	21,8	25,1	21,6	22,8
від 6 міс. до 9 міс.	8,5	10,7	11,3	10,2	10,0	9,0
від 9 міс. до 12 міс.	9,6	6,0	9,2	6,8	6,4	6,1
12 міс. і більше	55,4	29,8	23,6	12,8	25,3	21,6
Середня тривалість пошуку роботи, місяців	10	7	7	5	7	6

Таблиця 2.6.

Рівень безробіття населення (за методологією МОП) за статтю і віком, місцем проживання та віковими групами у 2018 році

	Усього у віці 15-70 рр.	15-24 рр.	25-29 рр.	30-34 рр.	35-39 рр.	40-49 рр.	50-59 рр.	60-70 рр.
	<i>% до кількості економічно активного населення вікової групи</i>							
жінки	7,4	19,3	6,4	7,6	8,1	6,2	6,8	0,2
чоловіки	10,0	16,9	12,2	9,9	10,7	9,2	8,1	0,1
місто	8,6	19,0	10,2	8,5	9,5	7,4	7,0	0,2
село	9,2	16,5	8,9	9,9	9,4	8,4	8,2	...

Таблиця 2.7.

Рівень безробіття в Єврозоні (EU-28) за даними: <https://ec.europa.eu/eurostat/>

	2018M12	2019M1	2019M3	2019M5	2019M7	2019M9	2019M10
	%						
total	6,6	6,5	6,4	6,3	6,3	6,3	6,3
age < 25 year	14,6	14,6	14,4	14,5	14,5	14,5	14,4
age > 25 year	5,7	5,7	5,6	5,5	5,5	5,5	5,5

Додаток 3

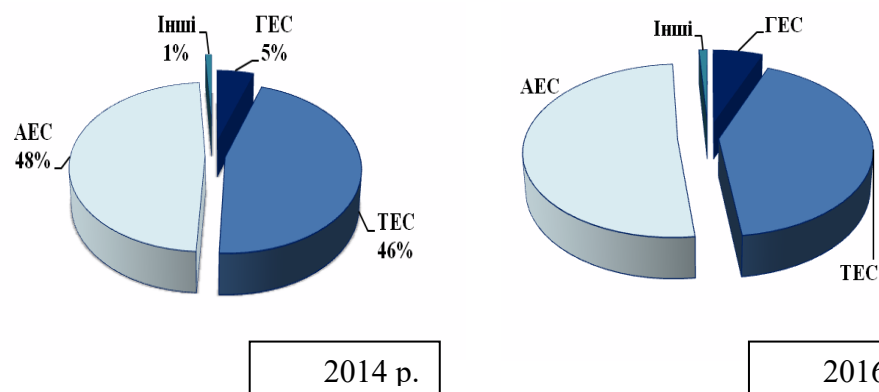
Таблиця 2.1.

Потужність електростанцій і виробництво електроенергії в Україні

	Усі електростанції		у тому числі							
			гідроелектростанції		теплові		атомні		інші (вітрові, сонячні)	
	потужність, млн кВт	виробництво електроенергії, млрд. кВт год	потужність, млн кВт	виробництво електроенергії, млрд. кВт год	потужність, млн кВт	виробництво електроенергії, млрд. кВт год	потужність, млн кВт	виробництво електроенергії, млрд. кВт год	потужність, млн кВт	виробництво електроенергії, млрд. кВт год
1990	55,6	298,5	4,7	10,7	37,1	211,6	13,8	76,2	—	—
2000	52,9	171,4	4,7	11,5	36,3	82,6	11,8	77,3	0,0	0,0
2010	54,6	188,8	5,5	13,2	35,2	86,5	13,8	89,2	0,1	0,1
2011	54,6	194,9	5,5	10,9	35,0	93,6	13,8	90,2	0,3	0,1
2012	55,0	198,9	5,5	11,0	35,1	97,1	13,8	90,1	0,6	0,6
2013	55,9	194,4	5,5	14,5	35,6	95,5	13,8	83,2	1,0	1,2
2014	55,8	182,8	5,9	9,3	35,3	83,5	13,8	88,4	0,8	1,6
2015	55,9	163,7	5,9	7,0	35,3	67,5	13,8	87,6	0,9	1,5
2016	59,2	147,8	6,2	9,0	38,1	61,3	13,8	75,9	1,12	1,6
2017	52,9	144,9	6,2	10,4	31,1	51,7	13,8	80,3	1,8	2,5
2018	51,5	148,3	6,2	11,8	29,4	54,7	13,8	79,4	2,1	2,4

Рисунок 2.1.

Структура виробництва електроенергії в Україні у 2014 та 2016 рр.



Таблиця 2.2.

Таблиця 3.1.

Споживання енергетичних матеріалів та продуктів перероблення нафти за окремими видами економічної діяльності у 2018 р.

	Частка споживання за окремими видами економічної діяльності, %					
	Спожито	сільське, лісове та рибне господарства	промисловість	будівництво	транспорт, складське господарство, поштова та кур'єрська діяльність	підприємства та організації інших видів діяльності
Усього, млн т умовного палива	109,6	2,9	73,3	0,5	4,6	2,2
Вугілля, млн т	45,4	0,3	98,4	0,0	0,1	0,6
Газ природний, млрд м ³	31,6	1,0	55,3	0,1	6,6	2,5
Нафта сира (включаючи газовий конденсат), млн т	3,0	0,0	99,8	0,0	0,0	0,1
Бензин моторний, тис. т	1767,2	7,1	7,6	1,7	3,1	11,0
Газойлі (паливо дизельне), тис. т	5366,1	28,8	16,7	4,1	23,9	6,6
Мазути топкові важкі, тис. т	244,4	0,6	88,6	1,7	6,0	3,1
Гас, тис. т	301,4	0,2	2,4	0,0	96,8	0,6
Пропан і бутан скраплені, тис. т	1014,1	4,6	9,5	0,6	1,8	4,3
Оливи і мастила, тис. т	216,8	9,0	80,5	1,7	7,6	1,2
Брикети вугільні, тис. т	6,8	1,5	49,3	0,0	1,8	47,2
Торф неагломерований паливний, тис. т умовної вологості	482,2	0,0	99,3	0,0	0,0	0,7
Дрова для опалення, тис. м ³ цільних	4187,0	6,2	25,5	0,5	0,9	20,0
Паливні брикети та гранули з деревини та іншої природної сировини, тис. т	424,2	3,3	73,5	0,6	2,0	19,7

Таблиця 3.3.

Динаміка споживання енергетичних матеріалів та продуктів перероблення нафти

(млн. т)

	2000	2004	2006	2008	2010	2012	2014	2018
Вугілля, млн т	63,3	65,9	70,6	70,4	67,8	73,3	53,9	45,4
Газ природний, млрд м ³	68,4	71,1	70,6	63,5	55,9	53,4	38,6	31,6
Нафта сира (включаючи газовий конденсат), млн т	9,4	22,4	14,9	10,8	11,3	4,8	2,3	3,0
Бензин моторний, млн т	2,9	3,7	4,4	5,1*	4,6*	4,2*	3,1*	1,8*
Газойлі (паливо дизельне), млн т	4,9	5,6	5,6	6,2	5,7	6,3	5,4	5,4
Мазути топкові важкі, млн т	1,2	0,7	1,1	1,2	0,8	3,2	1,4	2,4
Гас, млн т	0,2	0,1	0,4	0,4	0,3	3,2	1,4	...
Торф неагломерований паливний, млн т умовної вологості	0,4	0,4	0,5	0,3	0,4	4,3	4,4	4,2
Дрова для опалення, млн м ³ щільних	2,6	3,0	2,7	2,7	2,5	2,8	2,9	4,2

* з урахуванням обсягів продажу населенню через автозаправні станції

Додаток 4

Таблиця 4.1.

Урожайність основних сільськогосподарських культур у 1940–2018 рр., ц / 1 га

Роки	Зернові культури	Цукрові буряки	Соняшник	Картопля	Овочі	Плоди та ягоди	Виноград
1940	12,4	159	13,1	101	113	22,8	21,8
1950	10,2	168	8,1	107	62	21,2	13,1
1960	15,5	199	10,6	89	103	22,1	34,3
1970	22,8	252	14,8	99	120	25,9	37,6
1980	22,5	213	13,0	79	146	28,7	51,0
1990	35,1	276	15,8	117	149	42,7	58,3
2000	19,4	177	12,2	122	112	38,4	51,7
2010	26,9	279	15,0	132	174	78,2	60,3
2014	43,7	477	19,4	176	208	95,2	98,6
2015	41,1	436	21,6	161	206	104,5	92,3
2016	46,1	482	22,4	166	211	101,9	88,4
2017	42,5	475	20,2	168	208	103,1	99,3
2018	47,4	509	23,0	171	214	128,4	114,9
<i>Зміна врожайності, разів:</i>							
2018/1940							
2018/1990							
2018/2000							

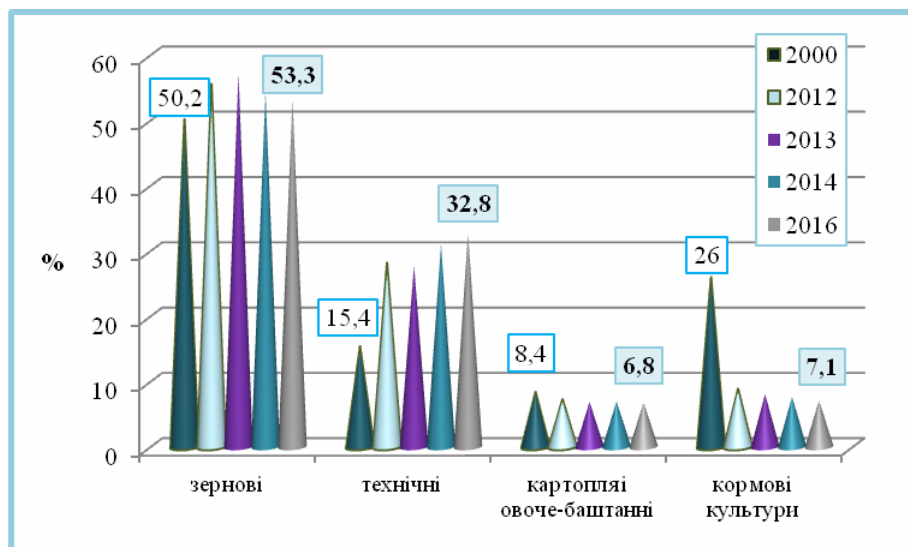
Таблиця 4.2.

Виробництво основних видів продукції тваринництва у 1940–2018 рр.

Роки	М'ясо (у забійній вазі), тис. т	Молоко, тис. т	Яйця, млн. штук	Вовна, т
1940	1127	7114	3273	13454
1950	1195	6804	3490	11884
1960	2068	13995	7187	27583
1970	2850	18712	9202	24837
1980	3500	21112	14606	27243
1990	4358	24508	16287	29804
2000	1663	12658	8809	3400
2010	2059	11249	17052	4192
2014	2360	11133	19587	2602
2015	2323	10615	16783	2270
2016	2324	10382	15100	2072
2017	2318	10281	15506	1967
2018	2355	10064	16132	1908
<i>Зміна виробництва, разів</i>				
2018/1940				
2018/1990				
2018/2000				

Рисунок 4.1.

Зміна структури посівних площ сільськогосподарських культур у динаміці



У 2018 р. посівні площі в Україні склали 27 699 тис. га;

з них 14 839 тис. га було відведено під зернові;

9 266 тис. га – під технічні культури;

1825 тис. га – під картоплю та овоче-баштанні;

1769 тис. га – під кормові культури.

Таблиця 4.3.

Урожайність зернових культур в Україні у 2018 р.

ц/га

	Культури зернові та зернобобові	у тому числі	
		пшениця	кукурудза на зерно
Україна	47,4	37,3	78,4
Автономна Республіка Крим
області			
Вінницька	69,0	51,5	99,0
Волинська	42,2	42,8	104,3
Дніпропетровська	31,1	30,0	43,0
Донецька	23,6	27,1	29,4
Житомирська	54,4	41,6	91,0
Закарпатська	43,0	30,7	53,1
Запорізька	23,4	25,8	34,6
Івано-Франківська	50,0	45,0	75,6
Київська	65,8	46,7	97,2
Кіровоградська	45,3	36,2	60,8
Луганська	28,5	29,3	34,6
Львівська	49,0	45,5	89,2
Миколаївська	30,8	31,2	50,4
Одеська	36,3	37,3	49,7
Полтавська	65,7	42,9	82,2
Рівненська	48,1	45,0	84,9
Сумська	69,7	50,0	89,0
Тернопільська	56,9	51,2	93,5
Харківська	37,7	33,7	56,3
Херсонська	31,9	31,5	71,0
Хмельницька	67,2	54,4	100,5
Черкаська	71,0	48,3	92,4
Чернівецька	48,6	43,7	61,0
Чернігівська	68,8	41,3	94,0

Таблиця 4.4.

Розподіл продукції сільського господарства за регіонами

	2000	2005	2007	2009	2011	2013	2014	2016
	1990 р. = 100%							
Україна	53,4	63,5	60,9	70,0	82,6	89,4	92,6	93,8
Автономна Республіка Крим області	43,6	46,6	54,4	67,4	73,3	59,5
Вінницька	53,8	59,0	57,8	70,6	85,0	100,8	111,9	120,2
Волинська	54,9	62,8	63,5	64,7	72,7	79,8	84,8	82,5
Дніпропетровська	55,0	73,8	66,8	83,0	99,0	103,4	97,4	103,8
Донецька	56,8	71,4	61,4	67,1	82,3	82,4	76,7	53,9
Житомирська	51,8	54,7	51,5	56,9	65,1	75,8	79,6	84,8
Закарпатська	78,2	89,0	87,9	93,7	96,7	103,1	103,0	94,8
Запорізька	47,6	58,8	49,1	57,7	67,8	73,9	71,4	77,0
Івано-Франківська	73,4	77,2	81,3	82,1	94,3	102,2	108,7	105,5
Київська	54,0	71,5	78,5	81,1	96,2	105,8	112,1	109,8
Кіровоградська	48,6	67,8	49,6	67,1	85,4	92,9	91,2	97,5
Луганська	41,2	61,3	53,9	56,0	64,2	67,3	53,7	49,9
Львівська	67,3	68,6	72,6	73,9	81,2	85,1	89,8	89,4
Миколаївська	41,4	57,1	38,6	69,2	78,8	88,4	82,5	91,5
Одеська	58,2	66,0	42,8	62,6	73,7	83,5	81,3	87,4
Полтавська	43,5	63,5	67,2	75,5	92,2	99,0	95,9	106,4
Рівненська	56,7	61,6	66,4	67,9	77,4	84,7	89,1	86,8
Сумська	50,9	50,8	50,7	54,1	67,0	80,2	88,0	86,8
Тернопільська	55,3	55,1	61,9	64,1	76,5	84,5	96,2	89,4
Харківська	55,8	71,3	67,0	64,1	84,9	93,7	96,6	100,1
Херсонська	53,6	61,9	52,8	75,9	96,3	94,8	99,7	108,6
Хмельницька	57,8	54,6	61,1	65,5	75,8	90,3	104,2	98,3
Черкаська	57,9	72,9	73,4	104,0	128,5	132,5	130,5	132,9
Чернівецька	63,3	70,5	75,1	78,1	89,9	93,9	97,9	89,2
Чернігівська	49,0	54,3	57,1	58,4	66,2	73,7	79,2	81,2

Таблиця 4.5.

Рівень рентабельності основних видів продукції сільського господарства у сільськогосподарських підприємствах

(відсотків)

	2000	2004	2008	2012	2014	2016	2018
	р о к и						
Зерно	64,8	20,1	16,4	15,2	25,8	37,8	24,7
Насіння соняшнику	52,2	45,2	18,4	45,8	36,5	63,0	32,5
Цукрові буряки (фабричні)	6,1	-0,8	7,1	15,7	17,9	24,3	-11,4
Овочі відкритого ґрунту	-1,7	-5,0	11,1	-6,8	16,7	19,7	13,3
Картопля	14,0	-0,7	7,9	-21,5	9,2	-3,2	6,8
Плоди	-1,1	8,4	13,9	8,8	68,2	12,0	6,4
Виноград	62,7	8,7	58,8	72,6	61,0	74,6	22,6
Молоко і молочні продукти	-6,0	-0,4	4,1	2,3	11,0	18,2	16,1
М'ясо великої рогатої худоби	-42,3	-33,8	-24,1	-29,5	-35,9	-24,8	-17,7
свиней	-44,3	-14,4	0,3	2,0	5,6	-4,5	6,9
овець та кіз	-46,4	-44,3	-38,6	-40,0	-52,2	-35,2	-16,6
птиці	-33,2	3,8	-11,3	-7,2	-15,4	5,0	5,7
Яйця курячі	10,6	15,2	13,0	52,6	58,8	0,5	5,4
Вовна	-75,8	-74,7	-74,7	-61,0	-75,1	-31,8	-69,5